

MASTER QUESTION PAPER WITH KEY

Exam Code : SSC_151117_SP_HSC_1

Exam Date : 15-Nov-2017

Duration : 60

Exam Time : 11:00 am

1 . कौनसा शब्द नीचे दिए संबंध को सबसे अच्छी तरह से पूरा करेगा?

कबूतर : शांति :: सफेद झंडा : ?

A. विजय

B. समर्पण

C. स्वायत्ता

D. आक्रमण

Answer Key - B

2 . कौन सी संख्या नीचे दिए संबंध को सबसे अच्छी तरह से पूरा करेगी?

8 : 256 :: 10 : ?

A. 75

B. 250

C. 500

D. 1000

Answer Key - C

3 . असंगत को चुनें।

A. माइक्रोब

B. माइक्रोफिल्म

C. माइक्रोफोन

D. माइक्रोस्कोप

Answer Key - A

4 . असंगत को चुनें।

A. 13

B. 17

C. 23

D. 71

Answer Key - C

5 . यदि किसी कोड में 743 से अभिप्राय है 'mangoes are good' और 657 से अभिप्राय है 'eat good food' और 934 से अभिप्राय है 'mangoes are ripe', तो उस कोड में कौन सा अंक 'ripe' को दर्शाता है?

A. 4

B. 5

C. 7

D. 9

Answer Key - D

6 . किसी कोड में QUESTION को RTGQWFSJ लिखा जाता है तो उस कोड में EXPORTER को कैसा लिखा जाएगा?

A. FVRMVQIN

B. FWRMUQIN

C. FWNMUQIN

D. FWRMTQHN

Answer Key - B

MASTER QUESTION PAPER WITH KEY

Exam Code : SSC_151117_SP_HSC_1

Exam Date : 15-Nov-2017

Duration : 60

Exam Time : 11:00 am

7 . चारु, पूर्व की ओर मुंह करके खड़ी है। वह घड़ी की सुई की दिशा में 45° घूमती है और उसके बाद वह घड़ी की सुई की दिशा में 180° घूमती है। तत्पश्चात् वह घड़ी की सुई की विपरीत दिशा में 270° घूमती है। अब वह किस दिशा की ओर मुंह करके खड़ी है?

A. उत्तर-पश्चिम

B. उत्तर-पूर्व

C. दक्षिण-पूर्व

D. दक्षिण-पश्चिम

Answer Key - B

8 . 6 किमी चलने के बाद, मैं दाईं ओर मुड़ा और 2 किमी तक चला, उसके बाद मैं बाएं मुड़ा और पाँच किमी की दूरी तय की। अंत में, उत्तर की ओर जा रहा था। मैंने किस दिशा से अपनी यात्रा शुरू की थी?

A. पूर्व

B. पश्चिम

C. उत्तर

D. दक्षिण

Answer Key - C

9 . दी गई श्रृंखला में गलत संख्या बताएं।

13, 35, 57, 69, 101

A. 35

B. 57

C. 69

D. इनमें से कोई नहीं

Answer Key - C

10 . श्रृंखला पूरी करें।

112, 111, 119, 92, 156, (...)

A. 31

B. 128

C. 220

D. 247

Answer Key - A

11 . श्रृंखला पूरी करें।

H, M, J, O, L, (...)

A. N

B. Q

C. S

D. U

Answer Key - B

12 . दी गई श्रृंखला में गलत जोड़ी बताएं।

BY, DW, HR, JQ, NM

A. BY

B. DW

C. HR

D. JQ

Answer Key - C

MASTER QUESTION PAPER WITH KEY

Exam Code : SSC_151117_SP_HSC_1

Exam Date : 15-Nov-2017

Duration : 60

Exam Time : 11:00 am

16 . महा, अनीता से लंबी है, शीला, मीना से लंबी है लेकिन वह अनीता जितनी लंबी नहीं है। हरिणी, महा से लंबी है। निम्नलिखित में से सबसे छोटी कौन है?

A. मीना

B. शीला

C. हरिणी

D. निश्चित करना असंभव है।

Answer Key - A

17 . दिए हुए शब्दों को तर्कसंगत क्रम में व्यवस्थित करें।

1) बोना 2) खाद डालना 3) जोताई 4) फसल काटना 5) पानी देना

A. 3, 2, 5, 1, 4

B. 3, 1, 5, 2, 4

C. 1, 3, 2, 4, 5

D. 1, 5, 2, 3, 4

Answer Key - B

18 . दिए हुए शब्दों को तर्कसंगत क्रम में व्यवस्थित करें।

1) आय 2) हैसियत 3) शिक्षा 4) कल्याण 5) नौकरी

A. 3, 1, 5, 2, 4

B. 1, 3, 2, 4, 5

C. 1, 2, 5, 3, 4

D. 3, 5, 1, 2, 4

Answer Key - D

MASTER QUESTION PAPER WITH KEY

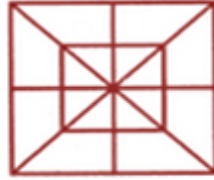
Exam Code : SSC_151117_SP_HSC_1

Exam Date : 15-Nov-2017

Duration : 60

Exam Time : 11:00 am

19 . दीए गए आकृति में वर्गों की कुल संख्या ज्ञात करें।



A.	6	B.	8
C.	10	D.	12

Answer Key - C

MASTER QUESTION PAPER WITH KEY

Exam Code : SSC_151117_SP_HSC_1

Exam Date : 15-Nov-2017

Duration : 60

Exam Time : 11:00 am

20 . दिए गए विकल्पों में से वह आकृति चुनें जिसे निम्न आकारों के उपयोग से बनाया जा सकता है।



A.		B.	
C.		D.	

Answer Key - A

MASTER QUESTION PAPER WITH KEY

Exam Code : SSC_151117_SP_HSC_1

Exam Date : 15-Nov-2017

Duration : 60

Exam Time : 11:00 am

21 . निम्नलिखित जानकारी को ध्यानपूर्वक से पढ़ें और नीचे दिए प्रश्न के उत्तर दें।

छः मित्र 'P', 'Q', 'R', 'S', 'T' और 'V' उत्तर की ओर देखते हुए एक पंक्ति में बैठे हुए हैं। 'R', 'P' और 'T' के बीच में है, 'S' अंतिम छोर पर नहीं है। 'Q', 'T' के ठीक दाईं ओर है। 'V' दाएँ छोर पर नहीं है।

'P' के ठीक बाईं ओर कौन बैठा है?

A.	S	B.	Q
C.	T	D.	V

Answer Key - A

MASTER QUESTION PAPER WITH KEY

Exam Code : SSC_151117_SP_HSC_1

Exam Date : 15-Nov-2017

Duration : 60

Exam Time : 11:00 am

22 . निम्नलिखित जानकारी को ध्यानपूर्वक से पढ़ें और नीचे दिए प्रश्न के उत्तर दें।

छः मित्र 'P', 'Q', 'R', 'S', 'T' और 'V' उत्तर की ओर देखते हुए एक पंक्ति में बैठे हुए हैं। 'R', 'P' और 'T' के बीच में है, 'S' अंतिम छोर पर नहीं है। 'Q', 'T' के ठीक दाईं ओर है। 'V' दाएँ छोर पर नहीं है।

'S' की दाईं ओर कितने लोग बैठे हैं?

A.	1	B.	2
C.	3	D.	4

Answer Key - D

MASTER QUESTION PAPER WITH KEY

Exam Code : SSC_151117_SP_HSC_1

Exam Date : 15-Nov-2017

Duration : 60

Exam Time : 11:00 am

23 . निम्नलिखित जानकारी को ध्यानपूर्वक से पढ़ें और नीचे दिए प्रश्न के उत्तर दें।

छः मित्र 'P', 'Q', 'R', 'S', 'T' और 'V' उत्तर की ओर देखते हुए एक पंक्ति में बैठे हुए हैं। 'R', 'P' और 'T' के बीच में है, 'S' अंतिम छोर पर नहीं है। 'Q', 'T' के ठीक दाईं ओर है। 'V' दाएँ छोर पर नहीं है।

दाएँ छोर पर कौन बैठा है?

A.	P	B.	T
C.	Q	D.	आंकड़े अपर्याप्त हैं।

Answer Key - C

MASTER QUESTION PAPER WITH KEY

Exam Code : SSC_151117_SP_HSC_1

Exam Date : 15-Nov-2017

Duration : 60

Exam Time : 11:00 am

24 . निम्नलिखित जानकारी को ध्यानपूर्वक से पढ़ें और नीचे दिए प्रश्न के उत्तर दें।

अरुण, सीता के घर जाता है जो गीता की पड़ोसी है, जिसकी बेटी का नाम मीरा है। मीरा कॉलेज में प्रथम वर्ष की छात्रा है। आरव, अरुण का पिता है और उसका विवाह अंजली के साथ हुआ है जिसकी बहन का नाम गीता है।

अरुण, गीता से कैसे संबंधित है?

A.	भाई	B.	चचेरा भाई
C.	मामा	D.	इनमें से कोई नहीं

Answer Key - D

MASTER QUESTION PAPER WITH KEY

Exam Code : SSC_151117_SP_HSC_1

Exam Date : 15-Nov-2017

Duration : 60

Exam Time : 11:00 am

25 . निम्नलिखित जानकारी को ध्यानपूर्वक से पढ़ें और नीचे दिए प्रश्न के उत्तर दें।

अरुण, सीता के घर जाता है जो गीता की पड़ोसी है, जिसकी बेटी का नाम मीरा है। मीरा कॉलेज में प्रथम वर्ष की छात्रा है। आरव, अरुण का पिता है और उसका विवाह अंजली के साथ हुआ है जिसकी बहन का नाम गीता है।

मीरा कैसे अंजली से संबंधित है?

A.	भांजी	B.	बेटी
C.	माँ	D.	बहन

Answer Key - A

26 . In the following question, the given sentence has four parts marked P, Q, R and S. Choose the part of the sentence with the error and mark as your answer. If there is no error, mark 'No error (S)' as your answer.

It did happen (P)/ but the story have been (Q)/ embellished a bit. (R)/ No error (S)

A. P

B. Q

C. R

D. S

Answer Key - B

MASTER QUESTION PAPER WITH KEY

Exam Code : SSC_151117_SP_HSC_1

Exam Date : 15-Nov-2017

Duration : 60

Exam Time : 11:00 am

33 . Choose the correct antonym of the given word from the options given below.

CREATIVE

A. Ingenious

B. Unimaginative

C. Innovative

D. Gifted

Answer Key - B

34 . Choose the correct antonym of the given word from the options given below.

DEMOLISH

A. Devastate

B. Annihilate

C. Crush

D. Create

Answer Key - D

35 . From the options given below, choose an option which best expresses the meaning of the given phrase.

"A drop in the bucket"

A. A very small part of something big or whole

B. Something good that isn't recognized at first

C. A task that can be accomplished very easily

D. A result that is still unclear and can go either way

Answer Key - A

36 . Choose the MISSPELT word.

A. Perceive

B. Repitition

C. Receipt

D. Playwright

Answer Key - B

37 . Choose from the four options, the word that best substitutes the given phrase.

"A system of government by a king or a queen"

A. Monarchy

B. Plutocracy

C. Republic

D. Aristocracy

Answer Key - A

38 . Choose the correct alternative which will improve the part of the sentence given in quotes.

They are too young 'to understood' what is going on.

A. For understand

B. To understand

C. Too understand

D. No improvement

Answer Key - B

MASTER QUESTION PAPER WITH KEY

Exam Code : SSC_151117_SP_HSC_1

Exam Date : 15-Nov-2017

Duration : 60

Exam Time : 11:00 am

39 . The following sentence is divided into four parts (P, Q, R and S). Rearrange it in the proper sequence in order to make a meaningful sentence.

(P) Known since prehistoric times

(Q) It is the brightest object in the sky after the Sun

(R) And nearest large celestial body

(S) Moon is the Earth's sole natural satellite

A. RPQS

B. QRSP

C. SRPQ

D. PRQS

Answer Key - C

40 . In the following question, there are six sentences marked S1, P, Q, R, S and S6. The position of S1 and S6 are fixed. Some parts of the sentence have been jumbled up. Rearrange these parts and choose the proper sequence from the given options.

(S1) One day while a sage was going through a jungle, he saw two rams fighting each other.

(P) When he saw all the blood, he started licking the blood from the ground without caring for the fighting rams.

(Q) At the same time, a hungry jackal was passing by.

(R) Watching all this, the sage thought to himself.

(S) Even though both were wounded, and blood was oozing out from their heads and bodies, they did not stop fighting and rammed at each other.

(S6) This jackal is a fool as it has become greedy by the smell of blood, if he comes between the fighting rams, it will get rammed and get hurt himself.

A. PQRS

B. RPSQ

C. QRPS

D. SQPR

Answer Key - D

41 . Rewrite the sentence in direct speech.

Ramesh told that Priya was playing in the ground.

A. Ramesh said, "Priya has been playing in the ground"

B. Ramesh said, "Priya is playing in the ground"

C. Ramesh said, "Priya played in the ground"

D. Ramesh said, "Priya had been playing in the ground"

Answer Key - B

MASTER QUESTION PAPER WITH KEY

Exam Code : SSC_151117_SP_HSC_1

Exam Date : 15-Nov-2017

Duration : 60

Exam Time : 11:00 am

42 . Rewrite the sentence in indirect speech.

Siva said, "I have been reading a novel for five days".

- A. Siva told that he had been reading a novel for five days B. Siva told that he was reading a novel for five days
C. Siva told that he is reading a novel for five days D. Siva told that he reads a novel for five days

Answer Key - A

43 . Rewrite the sentence in active voice.

The mansion has been built by the mason.

- A. The mason built the mansion B. The mason have built the mansion
C. The mason has built the mansion D. The mason building the mansion

Answer Key - C

44 . Rewrite the sentence in passive voice.

My sister had painted this wall.

- A. This wall is painted by my sister B. This wall has been painted by my sister
C. This wall was painted by my sister D. This wall had been painted by my sister

Answer Key - D

MASTER QUESTION PAPER WITH KEY

Exam Code : SSC_151117_SP_HSC_1

Exam Date : 15-Nov-2017

Duration : 60

Exam Time : 11:00 am

- 45 . **In the following passage there are blanks, each of which has been numbered. Choose the correct word from the given options which fits the blank appropriately.**

Mango is a member of the cashew family and one of the most important and widely cultivated (45) of the tropical world. The mango tree is considered (46) to eastern Asia, Myanmar, and Assam state of India. Mangoes (47) a rich source of vitamins A, C, and D.

A.	Leaves	B.	Vegetable
C.	Seeds	D.	Fruits

Answer Key - D

MASTER QUESTION PAPER WITH KEY

Exam Code : SSC_151117_SP_HSC_1

Exam Date : 15-Nov-2017

Duration : 60

Exam Time : 11:00 am

- 46 . **In the following passage there are blanks, each of which has been numbered. Choose the correct word from the given options which fits the blank appropriately.**

Mango is a member of the cashew family and one of the most important and widely cultivated (45) of the tropical world. The mango tree is considered (46) to eastern Asia, Myanmar, and Assam state of India. Mangoes (47) a rich source of vitamins A, C, and D.

A.	Indigenous	B.	National
C.	Public	D.	Thorough

Answer Key - A

MASTER QUESTION PAPER WITH KEY

Exam Code : SSC_151117_SP_HSC_1

Exam Date : 15-Nov-2017

Duration : 60

Exam Time : 11:00 am

- 47 . **In the following passage there are blanks, each of which has been numbered. Choose the correct word from the given options which fits the blank appropriately.**

Mango is a member of the cashew family and one of the most important and widely cultivated (45) of the tropical world. The mango tree is considered (46) to eastern Asia, Myanmar, and Assam state of India. Mangoes (47) a rich source of vitamins A, C, and D.

A.	Is	B.	Are
C.	Has	D.	Shall

Answer Key - B

MASTER QUESTION PAPER WITH KEY

Exam Code : SSC_151117_SP_HSC_1

Exam Date : 15-Nov-2017

Duration : 60

Exam Time : 11:00 am

- 48 . **Read the following passage carefully and answer the question given below.**

Earthquakes are the sudden shock of the earth's surface that result in the earth shaking and rolling. They can be felt over large geographical areas for brief periods of time. This is a natural way for the earth to release stress. More than a million earthquakes shock the world each year. What causes this is unpredictable phenomenon. There are nearly 20 tectonic plates that are along the earth's surface that continuously move past each other. When these plates stretch or squeeze, huge rocks form at their edges and the rocks shift causing an earthquake. You can visualize an earthquake by holding a pencil horizontally in the air and applying force to both ends by pushing down on them.

What is the meaning of the underlined word "visualize?"

A.	Survey	B.	Disregard
C.	Imagine	D.	Create

Answer Key - C

MASTER QUESTION PAPER WITH KEY

Exam Code : SSC_151117_SP_HSC_1

Exam Date : 15-Nov-2017

Duration : 60

Exam Time : 11:00 am

- 49 . **Read the following passage carefully and answer the question given below.**

Earthquakes are the sudden shock of the earth's surface that result in the earth shaking and rolling. They can be felt over large geographical areas for brief periods of time. This is a natural way for the earth to release stress. More than a million earthquakes shock the world each year. What causes this is unpredictable phenomenon. There are nearly 20 tectonic plates that are along the earth's surface that continuously move past each other. When these plates stretch or squeeze, huge rocks form at their edges and the rocks shift causing an earthquake. You can visualize an earthquake by holding a pencil horizontally in the air and applying force to both ends by pushing down on them.

Which of the following can be inferred from the passage?

A.	Earthquakes take place in earth	B.	When earthquakes take place, earth releases stress
C.	Every year earthquakes take place	D.	All of these

Answer Key - D

MASTER QUESTION PAPER WITH KEY

Exam Code : SSC_151117_SP_HSC_1

Exam Date : 15-Nov-2017

Duration : 60

Exam Time : 11:00 am

- 50 . **Read the following passage carefully and answer the question given below.**

Earthquakes are the sudden shock of the earth's surface that result in the earth shaking and rolling. They can be felt over large geographical areas for brief periods of time. This is a natural way for the earth to release stress. More than a million earthquakes shock the world each year. What causes this is unpredictable phenomenon. There are nearly 20 tectonic plates that are along the earth's surface that continuously move past each other. When these plates stretch or squeeze, huge rocks form at their edges and the rocks shift causing an earthquake. You can visualize an earthquake by holding a pencil horizontally in the air and applying force to both ends by pushing down on them.

What is the main idea of the passage?

A.	What is earthquake and how it happens	B.	How to visualize
C.	Earthquake shocks the world	D.	Earthquakes can be felt in oceans

Answer Key - A

MASTER QUESTION PAPER WITH KEY

Exam Code : SSC_151117_SP_HSC_1

Exam Date : 15-Nov-2017

Duration : 60

Exam Time : 11:00 am

- 51 . यदि किसी संख्या में से 4 घटाकर उसे 6 से भाग दिया जाए, तो परिणाम 9 निकलता है। यदि इसी संख्या में से 3 घटा दिया जाए और फिर उसे 5 से भाग दिया जाए, तो परिणाम कितना निकलेगा?

A.	$9\frac{2}{5}$	B.	$10\frac{1}{5}$
C.	11	D.	$11\frac{2}{5}$

Answer Key - C

- 52 . यदि किसी संख्या के आठवें भाग के एक चौथाई भाग का आधा 0.0625 है, तो वह संख्या ज्ञात करें।

A. 3.2

B. 4

C. 32

D. 64

Answer Key - B

MASTER QUESTION PAPER WITH KEY

Exam Code : SSC_151117_SP_HSC_1

Exam Date : 15-Nov-2017

Duration : 60

Exam Time : 11:00 am

53 . $\sqrt{0.01} + \sqrt{0.81} + \sqrt{1.21} + \sqrt{0.0009}$ का मान ज्ञात करें।

A.	2.1	B.	2.13
C.	2.03	D.	2.11

Answer Key - B

54 . 2 साड़ियों और 4 कमीजों की कुल कीमत 1600 रुपये है। इसी राशि से 1 साड़ी और 6 कमीजें खरीदी जा सकती हैं। यदि कोई व्यक्ति 12 कमीजें खरीदना चाहे तो उसे कितनी राशि का भुगतान करना होगा?

A. रु.1200

B. रु.2400

C. रु.4800

D. रु.6000

Answer Key - B

55 . एक कक्षा में कुल 50 विद्यार्थी हैं। इनका औसत वज़न 45 किग्रा है। एक विद्यार्थी के कक्षा से बाहर जाने पर औसत में 100 ग्राम की कमी आ जाती है। कक्षा से बाहर चले जाने वाले विद्यार्थी का वज़न ज्ञात करें।

A. 45.5 किग्रा

B. 45.9 किग्रा

C. 49.5 किग्रा

D. 49.9 किग्रा

Answer Key - D

MASTER QUESTION PAPER WITH KEY

Exam Code : SSC_151117_SP_HSC_1

Exam Date : 15-Nov-2017

Duration : 60

Exam Time : 11:00 am

56 . $34.5\% \times 1800 + 12.4\% \times 1500 = (X)^3 + 78$, तो 'X' का मान ज्ञात करें।

A. 9

B. 27

C. 81

D. 162

Answer Key - A

57 . एक टंकी को दो नल क्रमशः 4 घंटे और 6 घंटे में पूरा भर सकते हैं। तीसरा नल टंकी को 3 घंटे में भर सकता है। यदि सभी तीन नल खोल दिए जाएँ, तो टंकी को भरने में कुल कितना समय लगेगा?

A. 3 घंटे

B. 9 घंटे

C. 12 घंटे

D. 24 घंटे

Answer Key - C

58 . एक परिवार में 5 बच्चों की औसत आयु 20 है। सबसे छोटे बच्चे की आयु 10 वर्ष है। सबसे छोटे बच्चे के जन्म से ठीक एक दिन पहले औसत आयु कितनी थी?

A. 12.5

B. 13.5

C. 15

D. 17

Answer Key - A

59 . सतीश एक काम को 2 दिनों में पूरा करता है, और राजेश उसी काम को 3 दिनों में पूरा कर पाता है। यदि दोनों एक साथ मिलकर इस काम को पूरा करते हैं और 150 रुपये प्राप्त करते हैं, तो इसमें सतीश का हिस्सा कितना है?

A. ₹.30

B. ₹.60

C. ₹.76

D. ₹.90

Answer Key - D

MASTER QUESTION PAPER WITH KEY

Exam Code : SSC_151117_SP_HSC_1

Exam Date : 15-Nov-2017

Duration : 60

Exam Time : 11:00 am

60 .

अंजू ने एक सामान, बीजू को 20% लाभ पर बेचा, फिर बीजू ने वही सामान चीनू को 10% लाभ पर बेच दिया, और उसके बाद चीनू ने वह सामान दिव्या को $12\frac{1}{2}\%$ लाभ पर बेच दिया। यदि दिव्या ने 29.70 रुपये का भुगतान किया, तो अंजू के लिए लागत कितनी थी?

A.	₹.18	B.	₹.20
C.	₹.24	D.	₹.30

Answer Key - B

61 . अनीता ने 4500 रुपये से एक व्यापार शुरू किया। फिर पद्मा 5400 रुपये देकर अनीता के साथ इस व्यापार में शामिल हो गई। यदि वर्ष के अंत में लाभ को 2 : 1 के अनुपात में विभाजित किया गया तो पद्मा कितने महीने के बाद व्यापार में शामिल हुई थी?

A. 4 महीने

B. 5 महीने

C. 6 महीने

D. 7 महीने

Answer Key - D

62 . एक घनाभ के किनारे 1: 2 : 3 के अनुपात में हैं, और इसका पृष्ठीय क्षेत्रफल 88 सेमी² है। घनाभ का आयतन ज्ञात करें।

A. 24 सेमी³

B. 48 सेमी³

C. 64 सेमी³

D. 120 सेमी³

Answer Key - B

MASTER QUESTION PAPER WITH KEY

Exam Code : SSC_151117_SP_HSC_1

Exam Date : 15-Nov-2017

Duration : 60

Exam Time : 11:00 am

63 . यदि $x : y = 5 : 2$, तो $(8x + 9y) : (8x + 2y)$ का मान ज्ञात करें।

A. 22 : 29

B. 26 : 61

C. 29 : 22

D. 61 : 26

Answer Key - C

64 . यदि किसी खाने की मेज़ की मूल कीमत में से 12.5% घटाने पर इसकी कीमत घटकर 4375 रुपये हो जाती है, तो इस मेज़ की मूल कीमत ज्ञात करें।

A. रु.4500

B. रु.4700

C. रु.4900

D. रु.5000

Answer Key - D

65 . एक ट्रेन, बिना ठहराव के 60 किमी/घंटा की औसत रफ़्तार से एक निश्चित दूरी तय करती है, और ठहराव के साथ यह 40 किमी/घंटा की रफ़्तार से चलती है। अपनी पूरी यात्रा के दौरान ट्रेन प्रति घंटा कितने मिनट के लिए रुकती है?

A. 15

B. 20

C. 30

D. 40

Answer Key - B

66 . यदि किसी धनराशि का चक्रवृद्धि ब्याज 10% की दर से 2 वर्षों में 2100 रुपये है, तो इसी धनराशि के लिए इसी दर और अवधि में सरल ब्याज ज्ञात करें।

A. रु.1900

B. रु.1910

C. रु.2000

D. रु.2005

Answer Key - C

67 . यदि 64000 रुपये को 5% चक्रवृद्धि ब्याज की दर से 18 महीनों की अवधि के लिए जमा किया गया है, जहाँ ब्याज की गणना छमाही आधार पर की जाती है, तो वह राशि ज्ञात करें।

A. रु.69821

B. रु.68921

C. रु.62981

D. रु.62891

Answer Key - B

68 . एक नाव धारा की दिशा में 20 किलोमीटर 1 घंटे में जाती है और धारा की विपरीत दिशा में यही दूरी 2 घंटे में पूरी करती है। स्थिर पानी में नाव की गति का पता लगाएं।

A. 5 किमी/घंटा

B. 7.5 किमी/घंटा

C. 10 किमी/घंटा

D. 15 किमी/घंटा

Answer Key - D

MASTER QUESTION PAPER WITH KEY

Exam Code : SSC_151117_SP_HSC_1

Exam Date : 15-Nov-2017

Duration : 60

Exam Time : 11:00 am

69 . यदि कोई घड़ी पाँच सेकंड में 6 बार स्ट्राइक करती है, तो 10 सेकंड में की जाने वाली स्ट्राइक की संख्या का पता लगाएं।

A. 8

B. 9

C. 10

D. 11

Answer Key - D

70 . यदि $\tan x = (\sin 45^\circ)(\cos 45^\circ) + \sin 30^\circ$ तो, 'x' का मान ज्ञात करें।

A. 30°

B. 45°

C. 60°

D. 90°

Answer Key - B

71 . 100 लगातार वर्षों में महीने का 29वां दिन कितनी बार आता है?

A. 1100

B. 1124

C. 1254

D. 1300

Answer Key - B

72 . $30^\circ 20'$ के संपूरक का पता लगाएं।

A. $59^\circ 40'$

B. $69^\circ 40'$

C. $135^\circ 80'$

D. $159^\circ 40'$

Answer Key - A

MASTER QUESTION PAPER WITH KEY

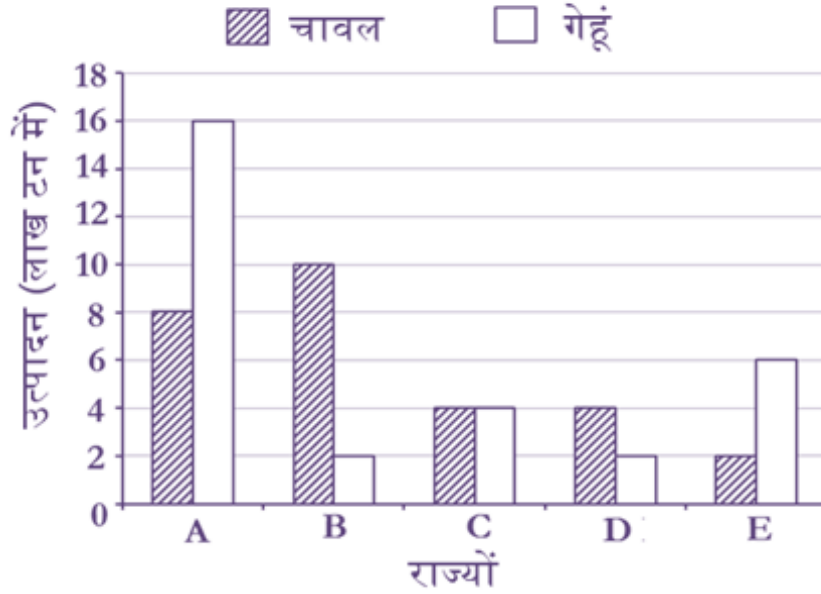
Exam Code : SSC_151117_SP_HSC_1

Exam Date : 15-Nov-2017

Duration : 60

Exam Time : 11:00 am

- 73 . **ग्राफ को अध्ययन करके नीचे दिए गए प्रश्न के उत्तर दीजिए**
बार आरेख एक निश्चित वर्ष में किसी देश के अलग-अलग राज्यों में चावल और गेहूं के उत्पादन को दर्शाता है।



सभी वर्णित राज्यों में चावल और गेहूं का कुल उत्पादन, इनमें से कौनसे राज्य में न्यूनतम है?

A.	B	B.	C
C.	D	D.	E

Answer Key - C

MASTER QUESTION PAPER WITH KEY

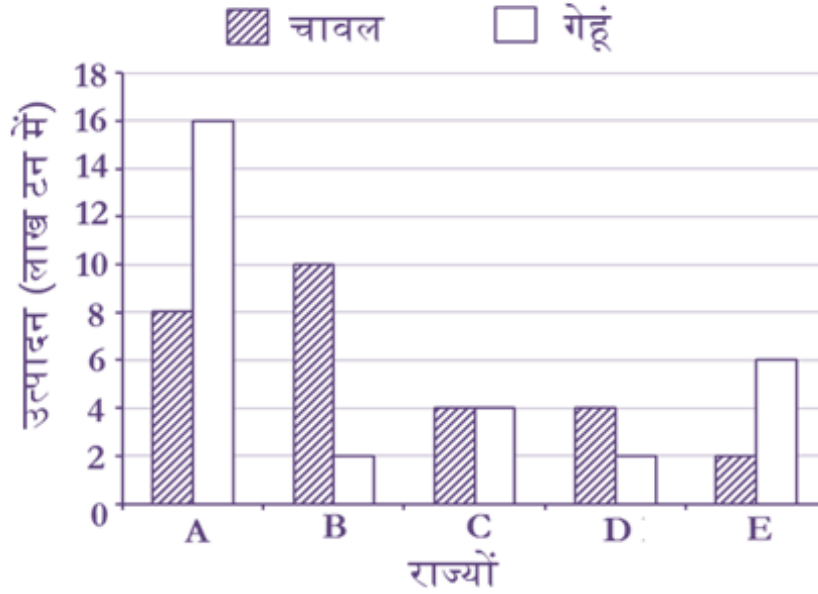
Exam Code : SSC_151117_SP_HSC_1

Exam Date : 15-Nov-2017

Duration : 60

Exam Time : 11:00 am

- 74 . **ग्राफ को अध्ययन करके नीचे दिए गए प्रश्न के उत्तर दीजिए**
बार आरेख एक निश्चित वर्ष में किसी देश के अलग-अलग राज्यों में चावल और गेहूं के उत्पादन को दर्शाता है।



वर्णित राज्यों में चावल के कुल उत्पादन से उन राज्यों में गेहूं के कुल उत्पादन का अनुपात क्या है?

A.	15 : 16	B.	12 : 13
C.	13 : 14	D.	14 : 15

Answer Key - D

MASTER QUESTION PAPER WITH KEY

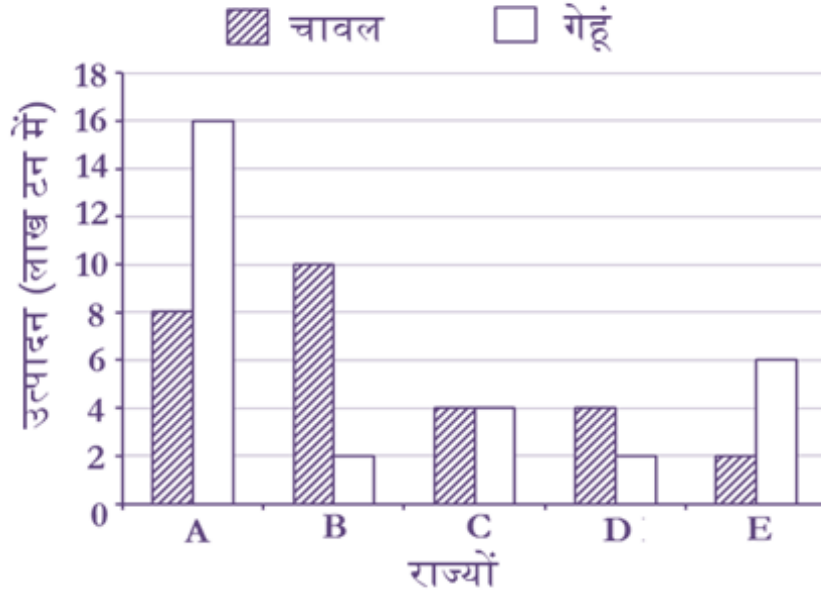
Exam Code : SSC_151117_SP_HSC_1

Exam Date : 15-Nov-2017

Duration : 60

Exam Time : 11:00 am

- 75 . **ग्राफ को अध्ययन करके नीचे दिए गए प्रश्न के उत्तर दीजिए**
बार आरेख एक निश्चित वर्ष में किसी देश के अलग-अलग राज्यों में चावल और गेहूं के उत्पादन को दर्शाता है।



वर्णित राज्यों में चावल के उत्पादन का औसत (लाख टनों में) है -

A.	5.5	B.	5.6
C.	5.7	D.	5.8

Answer Key - B

- 76 . VAT का विस्तार है-

- A. वाल्यूम एडेड टैक्स
B. वैल्यू एडेड टैक्स
C. वैल्यू एडिशनल टैक्स
D. वैरीएबल एडेड टैबल

Answer Key - B

- 77 . निम्न में से कौन भारत रत्न पुरस्कार पाने वाला पहला फिल्म से संबंधित व्यक्तित्व?

- A. दादा साहेब फाल्के
B. अशोक कुमार
C. सत्यजीत रे
D. पृथ्वीराज कपूर

Answer Key - C

MASTER QUESTION PAPER WITH KEY

Exam Code : SSC_151117_SP_HSC_1

Exam Date : 15-Nov-2017

Duration : 60

Exam Time : 11:00 am

78 . सूर्य और पृथ्वी के बीच की मध्य दूरी _____ के रूप में जानी जाती है।

A. प्रकाश वर्ष

B. पैरालेक्स सेकेंड

C. एस्ट्रोनॉमिकल यूनिट

D. एंग्स्ट्राम

Answer Key - C

79 . सामान्य तौर पर भोजन _____ में पचता है।

A. हृदय

B. गुर्दा

C. छोटी आंत

D. फेफड़ों

Answer Key - C

80 . निम्न में से कौनसा शब्द तैराकी से संबंधित नहीं है?

A. बॉडी पोजीशन

B. फ्रीस्टाइल

C. बॉडी रोल

D. बीमर

Answer Key - D

81 . ग्रैमी पुरस्कार विजेता, पंडित विश्व मोहन भट्ट को निम्न में से किस संगीत वाद्य को बजाने में महारथ हासिल है?

A. सरोद

B. बांसुरी

C. स्लाइड गिटार

D. तबला

Answer Key - C

82 . प्लासी का युद्ध ब्रिटिश ईस्ट इंडिया कंपनी और _____ के बीच हुआ था।

A. नवाब के अवध

B. नवाब के बंगाल

C. मुगल सम्राट शाह आलम II

D. हैदराबाद के निज़ाम

Answer Key - B

83 . कोडईकनाल एक पहाड़ी स्थान है जो _____ में स्थित है।

A. आनमलै पहाड़ी

B. अरावली पहाड़ी

C. पलानी पहाड़ी

D. सह्याद्री पहाड़ी

Answer Key - C

84 . साबरमती नदी किस भारतीय राज्य से निकलती है?

A. राजस्थान

B. मध्य प्रदेश

C. उत्तर प्रदेश

D. पश्चिम बंगाल

Answer Key - A

MASTER QUESTION PAPER WITH KEY

Exam Code : SSC_151117_SP_HSC_1

Exam Date : 15-Nov-2017

Duration : 60

Exam Time : 11:00 am

85 . _____ के पास भारत में नए राज्यों के निर्माण की शक्ति होती है।

- A. राष्ट्रपति
B. संसद
C. विधान सभा
D. प्रधानमंत्री

Answer Key - B

86 . रेडियोधर्मी पदार्थों की रेडियम और पोलोनियम की खोज का श्रेय जाता है-

- A. मैरी क्यूरी
B. पियरी क्यूरी
C. अर्नस्ट रूदरफोर्ड
D. दोनों (A) और (B)

Answer Key - D

87 . नज़मा हेपतुल्ला वर्तमान में _____ की राज्यपाल हैं।

- A. मेघालय
B. मणिपुर
C. पश्चिम बंगाल
D. इनमें से कोई नहीं

Answer Key - B

88 . ग्रेट विक्टोरिया रेगिस्तान _____ में स्थित है।

- A. ऑस्ट्रेलिया
B. इटली
C. कनाडा
D. पश्चिम अफ्रीका

Answer Key - A

89 . विश्व में निम्न में से कौनसा जीवित पक्षी सबसे बड़ा अंडा देता है?

- A. गिद्ध
B. अमरीकन रॉबिन
C. ब्लैक टर्न
D. शतुरमुर्ग

Answer Key - D

90 . "ट्रेन टू पाकिस्तान" किताब के लेखक _____ है।

- A. सलमान रुश्दी
B. अमिताव घोष
C. खुशवंत सिंह
D. शशि थरूर

Answer Key - C

91 . भारतीय संविधान का दसवां अनुच्छेद _____ से संबंधित है।

- A. दल-बदल कानून
B. पंचायती राज
C. भूमि सुधार
D. अनिवार्य मुफ्त शिक्षा

Answer Key - A

MASTER QUESTION PAPER WITH KEY

Exam Code : SSC_151117_SP_HSC_1

Exam Date : 15-Nov-2017

Duration : 60

Exam Time : 11:00 am

92 . क्षेत्रफल के अनुसार विश्व का सबसे बड़ा द्वीप कौनसा है?

- A. न्यू गिनी
B. ग्रीनलैंड
C. मडागास्कर
D. ग्रेट ब्रिटेन

Answer Key - B

93 . नुआखाई त्यौहार कौनसा भारतीय राज्य में मनाया जाता है?

- A. ओडिशा
B. पंजाब
C. असम
D. पश्चिम बंगाल

Answer Key - A

94 . "शेक्सपियर ऑफ इंडिया" के रूप में किसे जाना जाता है?

- A. कालिदास
B. वाल्मीकि
C. भारतियार
D. तिरुवल्लुवर

Answer Key - A

95 . यक्षगाना किस राज्य की नृत्य-नाटिका है?

- A. मेघालय
B. कर्नाटक
C. पश्चिम बंगाल
D. महाराष्ट्र

Answer Key - B

96 . झारखंड का राष्ट्रीय पक्षी कौनसा है?

- A. इंडियन रोलर
B. पर्वतीय मैना
C. घरेलू गौरैया
D. एशियाई कोयल

Answer Key - D

97 . कब "नेशनल गर्ल चाइल्ड डे" भारत में मनाया जाता है?

- A. 29 जनवरी
B. 24 जनवरी
C. 10 दिसंबर
D. 14 नवंबर

Answer Key - B

98 . _____ भारत में पहला राज्य बन गया है जिसने महिलाओं की शिकायतों की जाँच के लिए परिवार कल्याण जिला समितियाँ बनाई हैं।

- A. असम
B. त्रिपुरा
C. हरयाणा
D. मिजोरम

Answer Key - B

MASTER QUESTION PAPER WITH KEY

Exam Code : SSC_151117_SP_HSC_1

Exam Date : 15-Nov-2017

Duration : 60

Exam Time : 11:00 am

99 . निम्न में से किसको कंप्यूटर आधारित ज्ञान इंजन कहते हैं?

A. गूगल

B. बिंग

C. वोल्फ्रेम अल्फा

D. बाइडू

Answer Key - C

100 . निम्न में से किसने हुमायूँ के मकबरे का निर्माण शुरू किया था?

A. जहानारा बेगम

B. हाज़ी बेगम

C. माह चूचक बेगम

D. गुलबदन बेगम

Answer Key - B