



APOnline Limited

Notations :

- Options shown in **green** color and with  icon are correct.
- Options shown in **red** color and with  icon are incorrect.

Question Paper Name :	GSMA 0711S1
Subject Name :	General Studies and Mental Ability
Creation Date :	2022-11-07 13:01:45
Duration :	150
Total Marks :	150
Display Marks:	Yes
Share Answer Key With Delivery Engine :	No
Actual Answer Key :	Yes
Calculator :	None
Magnifying Glass Required? :	No
Ruler Required? :	No
Eraser Required? :	No
Scratch Pad Required? :	No
Rough Sketch/Notepad Required? :	No
Protractor Required? :	No
Show Watermark on Console? :	Yes
Highlighter :	No
Auto Save on Console?	Yes
Change Font Color :	No
Change Background Color :	No
Change Theme :	No
Help Button :	No
Show Reports :	No
Show Progress Bar :	No

General Studies and Mental Ability

Group Number :	1
Group Id :	4390156
Is this Group for Examiner? :	No
Examiner permission :	Cant View
Show Progress Bar? :	No

General Studies and Mental Ability

Section Id :	4390156
Section Number :	1
Section type :	Online
Enable Mark as Answered Mark for Review and Clear Response :	Yes
Maximum Instruction Time :	0
Sub-Section Number :	1
Sub-Section Id :	4390156
Question Shuffling Allowed :	Yes
Is Section Default? :	null

: None Response Time : N.A Think Time : N.A Minimum Instruction Time : 0 Negative Marks Display Text : 1/3 Option Orientation : Vertical

Correct Marks : 1 Wrong Marks : 0.33

Who among the following was conferred with the best actor in a leading role at the 94th Academy Awards 2022?

ఈ క్రింది వారిలో 2022 లో జరిగిన 94 వ అకాడమీ అవార్డ్స్ లో ప్రధాన పాత్ర వర్గంలో ఉత్తమ నటుడి పురస్కారం ప్రధానం చేసింది ఎవరికి?

Options :

Will Smith

4390153001. ✓ విల్ స్మిత్

Javier Bardem

4390153002. ✘ జేవియర్ బాదెం

Benedict Cumberbatch

4390153003. ✘ బెనెడిక్ట్ కుంబర్ బ్చ్

Andrew Garfield

4390153004. ✘ ఆండ్రూ గార్ఫీల్డ్

Question Number : 2 Question Id : 439015752 Question Type : MCQ Option Shuffling : Yes Is Question Mandatory : No Calculator : None Response Time : N.A Think Time : N.A Minimum Instruction Time : 0 Negative Marks Display Text : 1/3 Option Orientation : Vertical

Correct Marks : 1 Wrong Marks : 0.33

Boris Johnson, who resigned as the leader of the conservative party in July 2022 was the Prime minister of which country?

2022 జూలై లో కన్జర్వేటివ్ పార్టీ నాయకత్వనికి రాజీనామా చేసిన బోరిస్ జాన్సన్ ఏ దేశానికి ప్రధాన మంత్రి గా వున్నాడు ?

Options :

France

4390153005. ✘ ఫ్రాన్స్

Germany

4390153006. ✘ జర్మనీ

United Kingdom

4390153007. ✓ యునైటెడ్ కింగ్డమ్

Argentina

4390153008. ✘ అర్జెంటీనా

Question Number : 3 Question Id : 439015753 Question Type : MCQ Option Shuffling : Yes Is Question Mandatory : No Calculator : None Response Time : N.A Think Time : N.A Minimum Instruction Time : 0 Negative Marks Display Text : 1/3 Option Orientation : Vertical

Correct Marks : 1 Wrong Marks : 0.33

Yair Lapid officially became the 14th Prime Minister of which country at midnight between June 30 and July 1, 2022?

జూన్ 30 మరియు జూలై 1 2022 ల మధ్య అధ్యక్షాధిపతి యైర్ లపిడ్ (Yair Lapid) ఏ దేశానికి అధికారికంగా 14 వ ప్రధాన మంత్రి అయ్యారు ?

Options :

Bahrain

4390153009. ✘ బహ్రైన్

Israel

4390153010. ✔ ఇజ్రాయెల్

Spain

4390153011. ✘ స్పెయిన్

Egypt

4390153012. ✘ ఈజిప్ట్

Question Number : 4 Question Id : 439015754 Question Type : MCQ Option Shuffling : Yes Is Question Mandatory : No Calculator : None Response Time : N.A Think Time : N.A Minimum Instruction Time : 0 Negative Marks Display Text : 1/3 Option Orientation : Vertical

Correct Marks : 1 Wrong Marks : 0.33

Which of the following countries applied to join the BRICS mechanism in June 2022?

జూన్ 2022లో బ్రిక్స్ మెకానిజం లో చేరడానికి ఈ క్రింది వాటిలో ఏ దేశాలు దరఖాస్తు చేసుకున్నాయి ?

Options :

Germany

4390153013. ✘ జర్మనీ

Qatar

4390153014. ✘ ఖతార్

Iran

4390153015. ✔ ఇరాన్

Yemen

4390153016. ✘ యెమెన్

Question Number : 5 Question Id : 439015755 Question Type : MCQ Option Shuffling : Yes Is Question Mandatory : No Calculator : None Response Time : N.A Think Time : N.A Minimum Instruction Time : 0 Negative Marks Display Text : 1/3 Option Orientation : Vertical

Correct Marks : 1 Wrong Marks : 0.33

The European Union leaders granted Ukraine and _____ candidate status for EU membership during a European Council meeting in Brussels on June 23, 2022.

జూన్ 23, 2022న బ్రస్సెల్స్ లో జరిగిన యూరోపియన్ కౌన్సిల్ సమావేశంలో EU సభ్యత్వం కోసం యూరోపియన్ యూనియన్ నాయకులు ఉక్రెయిన్ మరియు _____ లకి అభ్యర్థి హోదాను మంజూరు చేశారు.

Options :

Brazil

4390153017. ✘ బ్రజిల్

Cyprus

4390153018. ✘ సిప్రస్

Moldova

4390153019. ✔ మల్డోవా

Bulgaria

4390153020. ✘ బల్గేరియా

Question Number : 6 Question Id : 439015756 Question Type : MCQ Option Shuffling : Yes Is Question Mandatory : No Calculator : None Response Time : N.A Think Time : N.A Minimum Instruction Time : 0 Negative Marks Display Text : 1/3 Option Orientation : Vertical

Correct Marks : 1 Wrong Marks : 0.33

India's first Autonomous Navigation facility, TiHAN inaugurated by the Union Minister of State for Science and Technology, Jitendra Singh at which IIT?

భారత దేశపు మొట్టమొదటి స్వయంప్రతిపత్త నావిగేషన్ సదుపాయం ఐన TIHAN ని కేంద్ర శాస్త్ర సాంకేతిక శాఖా సహాయ మంత్రి జితేంద్ర సింగ్ ఏ IIT లో ప్రారంభించారు ?

Options :

IIT Hyderabad

4390153021. ✔ IIT హైదరాబాద్

IIT Kharagpur

4390153022. ✘ IIT ఖరగ్ పూర్

IIT Madras

4390153023. ✘ IIT మద్రాస్

IIT New Delhi

4390153024. ✘ IIT న్యూ ఢిల్లీ

Question Number : 7 Question Id : 439015757 Question Type : MCQ Option Shuffling : Yes Is Question Mandatory : No Calculator : None Response Time : N.A Think Time : N.A Minimum Instruction Time : 0 Negative Marks Display Text : 1/3 Option Orientation : Vertical

Correct Marks : 1 Wrong Marks : 0.33

India created history by winning the Thomas Cup title for the first time in 2022. Which country hosted the Thomas cup 2022?

2022 లో మొదటి సారి థామస్ కప్ గెలుచుకోవడం ద్వారా భారత దేశం చరిత్ర సృష్టించింది. థామస్ కప్ 2022ను నిర్వహించిన దేశం ఏది ?

Options :

Qatar

4390153025. ✖ ఖతార్

Indonesia

4390153026. ✖ ఇండోనేషియా

Bangkok

4390153027. ✔ బ్యాంకాక్

Japan

4390153028. ✖ జపాన్

Question Number : 8 Question Id : 439015758 Question Type : MCQ Option Shuffling : Yes Is Question Mandatory : No Calculator : None Response Time : N.A Think Time : N.A Minimum Instruction Time : 0 Negative Marks Display Text : 1/3 Option Orientation : Vertical

Correct Marks : 1 Wrong Marks : 0.33

Digantara Research and Technologies Pvt. Ltd. based at _____, was authorised by IN-SPACe on June 24 to launch their payloads.

_____ కి చెందిన దిగంతరా రీసెర్చ్ అండ్ టెక్నాలజీస్ ప్రైవేట్ లిమిటెడ్, జూన్ 24న తమ పెలోడ్ లను ప్రయోగించడానికి IN-SPACe ద్వారా అధికారం పోయింది .

Options :

New Delhi

4390153029. ✖ న్యూ డిల్లీ

Bengaluru

4390153030. ✔ బెంగళూరు

Pune

4390153031. ✖ పూణే

Kochi

4390153032. ✖ కొచ్చి

Question Number : 9 Question Id : 439015759 Question Type : MCQ Option Shuffling : Yes Is Question Mandatory : No Calculator : None Response Time : N.A Think Time : N.A Minimum Instruction Time : 0 Negative Marks Display Text : 1/3 Option Orientation : Vertical

Correct Marks : 1 Wrong Marks : 0.33

What is the name of the satellite launched by NewSpace India Limited (NSIL) following the space reforms leasing the entire satellite's capacity to Direct-to-Home (DTH) service provider Tata Play in June 2022?

అంతరిక్ష సంస్కరణల తర్వాత జూన్ 2022 లో శాటిలైట్ యొక్క మొత్తం సామర్థ్యాన్ని డైరెక్ట్ టు హోమ్ (DTH) సర్వీస్ ప్రొవైడర్

టాటా ప్లే కి లీజుకు ఇచ్చిన న్యూ స్పేస్ ఇండియా లిమిటెడ్ (NSIL) ప్రయోగించిన ఉపగ్రహం పేరు ఏమిటి ?

Options :

GSAT-24

4390153033. ✓ GSAT-24

GSAT-26

4390153034. ✘ GSAT-26

GSAT-28

4390153035. ✘ GSAT-28

GSAT-30

4390153036. ✘ GSAT-30

Question Number : 10 Question Id : 439015760 Question Type : MCQ Option Shuffling : Yes Is Question Mandatory : No Calculator : None Response Time : N.A Think Time : N.A Minimum Instruction Time : 0 Negative Marks Display Text : 1/3 Option Orientation : Vertical

Correct Marks : 1 Wrong Marks : 0.33

Which IIT developed a robot that can clean septic tanks without the need for humans in June 2022?

జూన్ 2022 లో మనషులు అవసరం లేకుండా సెప్టిక్ ట్యాంక్ లను శుభ్రం చేసే రోబో ను ఏ IIT అభివృద్ధి చేసింది ?

Options :

IIT Kharagpur

4390153037. ✘ IIT ఖరగ్ పూర్ (Kharagpur)

IIT New Delhi

4390153038. ✘ IIT న్యూ డిల్లీ (New Delhi)

IIT Guwahati

4390153039. ✘ IIT గౌహతి (Guwahati)

IIT Madras

4390153040. ✓ IIT మద్రాస్ (Madras)

Question Number : 11 Question Id : 439015761 Question Type : MCQ Option Shuffling : Yes Is Question Mandatory : No Calculator : None Response Time : N.A Think Time : N.A Minimum Instruction Time : 0 Negative Marks Display Text : 1/3 Option Orientation : Vertical

Correct Marks : 1 Wrong Marks : 0.33

What is the name of the spacecraft manufacturing unit inaugurated Dr S Somanath, the chairman of the Indian Space Research Organisation (ISRO), at Karnataka Industrial Area Development Board (KIADB) Aero in June 2022?

జూన్ 2022 లో కర్ణాటక ఇండస్ట్రియల్ ఏరియా డెవలప్ మెంట్ బోర్డు (KIADB) ఏరోలో ఇండియన్ స్పేస్ రీసెర్చ్ ఆర్గనైజేషన్ (ISRO) యొక్క చైర్మన్ డాక్టర్ ఎస్ .సోమనాథ్ ప్రాంబించి న అంతరిక్ష నౌకల తయారీ యూనిట్ పేరు ఏమిటి ?

Options :

VISHWAM Technologies

4390153041. ✘ విశ్వం టెక్నాలజీస్

ANANTH Technologies

4390153042. ✓ అనంత్ టెక్నాలజీస్

BHARAT Technologies

4390153043. ✘ భారత్ టెక్నాలజీస్

YUVA Technologies

4390153044. ✘ యువ టెక్నాలజీస్

Question Number : 12 Question Id : 439015762 Question Type : MCQ Option Shuffling : Yes Is Question Mandatory : No
Calculator : None Response Time : N.A Think Time : N.A Minimum Instruction Time : 0 Negative Marks Display Text : 1/3 Option
Orientation : Vertical

Correct Marks : 1 Wrong Marks : 0.33

Kiya.ai, a digital solutions provider serving financial institutions and governments globally, announced the launch of India's first-ever banking metaverse in June 2022. What is the name of this banking metaverse?

ప్రపంచవ్యాప్తంగా ఆర్థిక సంస్థలు మరియు ప్రభుత్వాలకు లకు సేవలు అందిస్తున్న డిజిటల్ సొల్యూషన్స్ ప్రొవైడర్ **Kiya.ai**, జూన్ 2022లో భారతదేశపు మొట్టమొదటి బ్యాంకింగ్ మెటావర్స్ ను ప్రారంభిస్తున్నట్లు ప్రకటించింది ఈ బ్యాంకింగ్ మెటావర్స్ పేరు ఏమిటి?

Options :

Indoverse

4390153045. ✘ ఇండోవర్స్

Jioverse

4390153046. ✘ జియోవర్స్

Kiyaverse

4390153047. ✓ కియావర్స్

Bharatverse

4390153048. ✘ భారత్ వర్స్

Question Number : 13 Question Id : 439015763 Question Type : MCQ Option Shuffling : Yes Is Question Mandatory : No
Calculator : None Response Time : N.A Think Time : N.A Minimum Instruction Time : 0 Negative Marks Display Text : 1/3 Option
Orientation : Vertical

Correct Marks : 1 Wrong Marks : 0.33

Which state government launched a scheme called 'ParayShikshalaya' in February 2022 to provide elementary education for students of classes 1 to 5?

1 నించి 5 వ తరగతి విద్యార్థులకు ప్రాథమిక విద్య ను అందించడానికి ఫిబ్రవరి 2022 లో పరే శిక్షాలయ ('Paray Shikshalaya') అనే పథకాన్ని ఏ రాష్ట్ర ప్రభుత్వం ప్రారంభించింది ?

Options :

West Bengal

4390153049. ✓ పశ్చిమ బెంగాల్

Madhya Pradesh

4390153050. ✖ మధ్య ప్రదేశ్

Himachal Pradesh

4390153051. ✖ హిమాచల్ ప్రదేశ్

Maharashtra

4390153052. ✖ మహారాష్ట్ర

Question Number : 14 Question Id : 439015764 Question Type : MCQ Option Shuffling : Yes Is Question Mandatory : No Calculator : None Response Time : N.A Think Time : N.A Minimum Instruction Time : 0 Negative Marks Display Text : 1/3 Option Orientation : Vertical

Correct Marks : 1 Wrong Marks : 0.33

Prime Minister Narendra Modi launched the Ayushman Bharat Health Infrastructure Mission on October 25, 2021, in _____.

ప్రధాన మంత్రి నరేంద్ర మోదీ ఆయుష్మాన్ భారత్ హెల్త్ ఇన్ఫ్రాస్ట్రక్చర్ మిషన్ ను 25 అక్టోబర్ 2021 న _____ లో ప్రారంభించినారు.

Options :

Varanasi

4390153053. ✔ వారణాసి

Indore

4390153054. ✖ ఇండోర్

Ahmedabad

4390153055. ✖ అహ్మదాబాద్

Pune

4390153056. ✖ పూణే

Question Number : 15 Question Id : 439015765 Question Type : MCQ Option Shuffling : Yes Is Question Mandatory : No Calculator : None Response Time : N.A Think Time : N.A Minimum Instruction Time : 0 Negative Marks Display Text : 1/3 Option Orientation : Vertical

Correct Marks : 1 Wrong Marks : 0.33

India's first-ever girl Panchayat, called "Balika Panchayat", was started in several villages of which state in June 2022?

భారతదేశం లో మొట్టమొదటిసారిగా "బాలికా పంచాయితీ" అని పిలువబడే బాలికల పంచాయితీనిజూన్ 2022 లో ఏ రాష్ట్రంలోని అనేక గ్రామాలలో ప్రారంభించారు?

Options :

Uttar Pradesh

4390153057. ✖ ఉత్తర్ ప్రదేశ్

Maharashtra

4390153058. ✖ మహారాష్ట్ర

Gujarat

4390153059. ✓ గుజరాత్

Bihar

4390153060. ✗ బిహార్

Question Number : 16 Question Id : 439015766 Question Type : MCQ Option Shuffling : Yes Is Question Mandatory : No
Calculator : None Response Time : N.A Think Time : N.A Minimum Instruction Time : 0 Negative Marks Display Text : 1/3 Option
Orientation : Vertical

Correct Marks : 1 Wrong Marks : 0.33

On February 24, 2022, the Lancet released its study on children orphaned during the COVID-19 pandemic. According to this report, approximately how many children in India lost a parent or caregiver to COVID-19?

24 ఫిబ్రవరి 2022 లో లాన్సెట్ (Lancet) కోవిడ్ -19 మహమ్మారి సమయం లో అనాధలైన పిల్లల పై తన అధ్యయనాన్ని వెల్లడించింది . ఈ నివేదిక ప్రకారం కోవిడ్ -19 కారణం గా భారత దేశం లో ఎంత మంది పిల్లలు తల్లితండ్రులు మరియు సంరక్షకులను కోల్పోయారు ?

Options :

19 lakhs

4390153061. ✓ 19 లక్షలు

10 lakhs

4390153062. ✗ 10 లక్షలు

5 lakhs

4390153063. ✗ 5 లక్షలు

15 lakhs

4390153064. ✗ 15 లక్షలు

Question Number : 17 Question Id : 439015767 Question Type : MCQ Option Shuffling : Yes Is Question Mandatory : No
Calculator : None Response Time : N.A Think Time : N.A Minimum Instruction Time : 0 Negative Marks Display Text : 1/3 Option
Orientation : Vertical

Correct Marks : 1 Wrong Marks : 0.33

In March 2022, the 'Stree Mano Raksha Project' was launched by the Ministry of Women and Child Development (MoWCD) in collaboration with NIMHANS to improve women's mental health across India. Where is the headquarters of NIMHANS (National Institute of Mental Health and Neuro Sciences) located in India?

మార్చి 2022 న భారత దేశం అంతటా మహిళల మానసిక ఆరోగ్యం మెరుగు పరచడానికి NIMHANS సహకారంతో మహిళా మరియు శిశు అభివృద్ధి మంత్రిత్వ శాఖ (MoWCD) స్త్రీ మనో రక్ష ప్రాజెక్ట్ ను ప్రారంభించింది. NIMHANS (నేషనల్ ఇన్స్టిట్యూట్ ఆఫ్ మెంటల్ హెల్త్ అండ్ న్యూరో సైన్సెస్) ప్రధాన కార్యాలయం భారత దేశంలో ఎక్కడ వుంది ?

Options :

Bengaluru

4390153065. ✓ బెంగళూరు

Chennai

4390153066. ✗ చెన్నై

Hyderabad

4390153067. ✖ హైదరాబాద్

Kochi

4390153068. ✖ కొచ్చి

Question Number : 18 Question Id : 439015768 Question Type : MCQ Option Shuffling : Yes Is Question Mandatory : No Calculator : None Response Time : N.A Think Time : N.A Minimum Instruction Time : 0 Negative Marks Display Text : 1/3 Option Orientation : Vertical

Correct Marks : 1 Wrong Marks : 0.33

On 22 April 2022, the Union Minister for Social Justice and Empowerment and Chairman of Dr Ambedkar Foundation (DAF) launched the Dr Ambedkar Centres of Excellence (DACE) Scheme from which University?

22 ఏప్రిల్ 2022 నకేంద్ర సామాజికనాయక మరియు సాధికారత మంత్రి మరియు Dr అంబేడ్కర్ ఫౌండేషన్ (DAF) యొక్క చైర్మన్ Dr అంబేడ్కర్ ఫౌండేషన్ ఆఫ్ ఎక్సలెన్స్ (DACE) పథకాన్ని ఏవిశ్వవిద్యాలయం నుండి ప్రారంభించారు ?

Options :

Hyderabad Central University

4390153069. ✖ హైదరాబాద్ సెంట్రల్ యునివర్సిటీ

Delhi University

4390153070. ✖ ఢిల్లీ యునివర్సిటీ

Banaras Hindu University

4390153071. ✔ బనారస్ హిందూ యునివర్సిటీ

Mumbai University

4390153072. ✖ ముంబయి యునివర్సిటీ

Question Number : 19 Question Id : 439015769 Question Type : MCQ Option Shuffling : Yes Is Question Mandatory : No Calculator : None Response Time : N.A Think Time : N.A Minimum Instruction Time : 0 Negative Marks Display Text : 1/3 Option Orientation : Vertical

Correct Marks : 1 Wrong Marks : 0.33

Under the Plastic Waste Management Rules, 2016, the Ministry of Environment, Forest and Climate Change has issued guidelines on Extended Producers Responsibility (EPR) on plastic packaging. These guidelines will be effective from?

ప్లాస్టిక్ వేస్ట్ మేనేజ్మెంట్ రూల్స్, 2016 ప్రకారం, పర్యావరణం, అటవీ మరియు వాతావరణ మార్పుల మంత్రిత్వ శాఖ ప్లాస్టిక్ ప్యాకేజింగ్ పై విస్తరించిన ఉత్పత్తిదారుల బాధ్యత (EPR) పై మార్గదర్శకాలను జారీ చేసింది. ఈ మార్గదర్శకాలు ఇప్పటి నుండి అమలులోకి వస్తాయి?

Options :

1st July 2022

4390153073. ✔ 1 జూలై 2022

1st August 2022

4390153074. ✖ 1 ఆగస్టు 2022

1st September 2022

4390153075. ✖ 1 సెప్టెంబర్ 2022

1st June 2022

4390153076. ✖ 1 జూన్ 2022

Question Number : 20 Question Id : 439015770 Question Type : MCQ Option Shuffling : Yes Is Question Mandatory : No Calculator : None Response Time : N.A Think Time : N.A Minimum Instruction Time : 0 Negative Marks Display Text : 1/3 Option Orientation : Vertical

Correct Marks : 1 Wrong Marks : 0.33

The Centre for Monitoring Indian Economy recently released the unemployment report. According to the report, the unemployment in India was _____ in January 2022.

సెంటర్ ఫర్ మానిటరింగ్ ఇండియన్ ఎకానమీఇటీవల నిరుద్యోగ నివేదికను విడుదల చేసింది. నివేదిక ప్రకారం, జనవరి 2022 లో భారత దేశంలో నిరుద్యోగం _____ గా వుంది ?

Options :

6.57%

4390153077. ✔ 6.57%

7.57%

4390153078. ✖ 7.57%

8.57%

4390153079. ✖ 8.57%

9.57%

4390153080. ✖ 9.57%

Question Number : 21 Question Id : 439015771 Question Type : MCQ Option Shuffling : Yes Is Question Mandatory : No Calculator : None Response Time : N.A Think Time : N.A Minimum Instruction Time : 0 Negative Marks Display Text : 1/3 Option Orientation : Vertical

Correct Marks : 1 Wrong Marks : 0.33

What is the rank of India among 180 countries in the Environment Performance Index-2022 released by the World Bank?

ప్రపంచ బ్యాంక్ విడుదల చేసిన పర్యావరణ పనితీరు సూచిక 2022 ప్రకారం 180 దేశాలలో భారతదేశం యొక్క ర్యాంక్ ఎంత ?

Options :

131

4390153081. ✖ 131

180

4390153082. ✔ 180

115

4390153083. ✖ 115

4390153084. ✖ 103

Question Number : 22 Question Id : 439015772 Question Type : MCQ Option Shuffling : Yes Is Question Mandatory : No Calculator : None Response Time : N.A Think Time : N.A Minimum Instruction Time : 0 Negative Marks Display Text : 1/3 Option Orientation : Vertical

Correct Marks : 1 Wrong Marks : 0.33

On 1st July Ferdinand Marcos Junior took oath as President of which country?

1 జూలై న పెర్డి నెండ్ మార్కోస్ జూనియర్ ఏ దేశ అధ్యక్షుడి గా ప్రమాణ స్వీకారం చేశారు ?

Options :

Austria

4390153085. ✖ ఆస్ట్రీయా

Finland

4390153086. ✖ ఫిన్లాండ్

Philippines

4390153087. ✔ ఫిలిప్పీన్స్

Norway

4390153088. ✖ నార్వే

Question Number : 23 Question Id : 439015773 Question Type : MCQ Option Shuffling : Yes Is Question Mandatory : No Calculator : None Response Time : N.A Think Time : N.A Minimum Instruction Time : 0 Negative Marks Display Text : 1/3 Option Orientation : Vertical

Correct Marks : 1 Wrong Marks : 0.33

Whose record did Jasprit Bumrah break in July 2022 by scoring 29 runs in one over to create a world record for maximum runs off a single over in Test cricket?

జస్పిత్ బుమ్రా జూలై 2022 లో టెస్ట్ క్రికెట్లో ఒకే ఓవర్ లో అత్యధికంగా 29 పరుగులు నమోదు చేసి ఎవరి ప్రపంచ రికార్డ్ ను బద్దాలు కొట్టాడు ?

Options :

Brian Lara

4390153089. ✔ బ్రియాన్ లారా (Brian Lara)

Sachin Tendulkar

4390153090. ✖ సచిన్ టెండూల్కర్ (Sachin Tendulkar)

Mohammad Azharuddin

4390153091. ✖ మొహమ్మద్ అజారుద్దీన్ (Mohammad Azharuddin)

Adam Gilchrist

4390153092. ✖ ఆడమ్ గిల్ క్రిస్ట్ (Adam Gilchrist)

Question Number : 24 Question Id : 439015774 Question Type : MCQ Option Shuffling : Yes Is Question Mandatory : No
Calculator : None Response Time : N.A Think Time : N.A Minimum Instruction Time : 0 Negative Marks Display Text : 1/3 Option
Orientation : Vertical

Correct Marks : 1 Wrong Marks : 0.33

Indian discus thrower, Navjeet Dhillon won the gold medal with a _____ effort at the Qosanov Memorial 2022
athletics meet in Almaty, Kazakhstan.

కజాకిస్తాన్‌లోని అల్మాటీలో జరిగిన కోసనోవ్ (Qosanov)మెమోరియల్ 2022 అథ్లెటిక్స్ మీట్ లో భారతీయ డిస్కుస్
త్రోయర్ నవజీత్ ధిల్లాన్ _____ ప్రయత్నం తో బంగారు పతకాన్ని గెలుచుకున్నాడు

Options :

46.24 m

4390153093. ✖ 46.24 మీ

56.24 m

4390153094. ✔ 56.24 మీ

36.24 m

4390153095. ✖ 36.24 మీ

26.24 m

4390153096. ✖ 26.24 మీ

Question Number : 25 Question Id : 439015775 Question Type : MCQ Option Shuffling : Yes Is Question Mandatory : No
Calculator : None Response Time : N.A Think Time : N.A Minimum Instruction Time : 0 Negative Marks Display Text : 1/3 Option
Orientation : Vertical

Correct Marks : 1 Wrong Marks : 0.33

The change in the pitch of a sound when the source of the sound is moving relative to the listener is known as _____.

శ్రోతా కి సంబంధించి ధ్వని యొక్క మూలం కదులుతున్నప్పుడు ధ్వని యొక్క పిచ్ లోని మార్పుని _____ అంటారు .

Options :

Henry's effect

4390153097. ✖ హెన్రీ ప్రభావం

Boyle's effect

4390153098. ✖ బాయిల్ ప్రభావం

Thomson effect

4390153099. ✖ థాంసన్ ప్రభావం

Doppler effect

4390153100. ✔ డాప్లర్ ప్రభావం

Question Number : 26 Question Id : 439015776 Question Type : MCQ Option Shuffling : Yes Is Question Mandatory : No
Calculator : None Response Time : N.A Think Time : N.A Minimum Instruction Time : 0 Negative Marks Display Text : 1/3 Option
Orientation : Vertical
Correct Marks : 1 Wrong Marks : 0.33

Which of the following factors will NOT generally cause heart disease?

ఈ క్రింది వాటిలో ఏ కారకాలు సాధారణంగా గుండె జబ్బులు రావడానికి కారణం కాదు ?

Options :

High blood pressure

4390153101. ✘ అధిక రక్తపోటు

Elevated glucose levels

4390153102. ✘ గ్లూకోజ్ స్థాయిల పెరుగుదల

Raised lipid levels

4390153103. ✘ లిపిడ్ స్థాయిల పెరుగుదల

Deficiency of Vitamin A in diet

4390153104. ✔ ఆహారంలో విటమిన్ ఎ లోపం

Question Number : 27 Question Id : 439015777 Question Type : MCQ Option Shuffling : Yes Is Question Mandatory : No
Calculator : None Response Time : N.A Think Time : N.A Minimum Instruction Time : 0 Negative Marks Display Text : 1/3 Option
Orientation : Vertical
Correct Marks : 1 Wrong Marks : 0.33

As of July 2022, what is India's radiation exposure limit for mobile towers?

జూలై 2022 నాటికి భారత దేశంలో మొబైల్ టవర్స్ యొక్క రేడియేషన్ వెలువడే (exposure) పరిమితి ఎంత ?

Options :

9.2 watt/m²

4390153105. ✔ 9.2 watt/m²

6.2 watt/m²

4390153106. ✘ 6.2 watt/m²

3.2 watt/m²

4390153107. ✘ 3.2 watt/m²

2.2 watt/m²

4390153108. ✘ 2.2 watt/m²

Question Number : 28 Question Id : 439015778 Question Type : MCQ Option Shuffling : Yes Is Question Mandatory : No
Calculator : None Response Time : N.A Think Time : N.A Minimum Instruction Time : 0 Negative Marks Display Text : 1/3 Option
Orientation : Vertical
Correct Marks : 1 Wrong Marks : 0.33

Damaged and dry skin, wounds healing slowly and easy bruising are some of the problems which can arise because of the deficiency of which vitamin?

దెబ్బతిన్న మరియు పొడిబారినచర్మం, గాయాలు నెమ్మదిగా నయం అవడం మరియు సులభంగా గాయాలు కావడం వంటి కొన్ని సమస్యలు ఏ విటమిన్ లోపం వల్లనఉత్పన్నమవుతాయి ?

Options :

Vitamin C

4390153109. ✓ విటమిన్ C

Vitamin D

4390153110. ✗ విటమిన్ D

Vitamin A

4390153111. ✗ విటమిన్ A

Vitamin B₁₂

4390153112. ✗ విటమిన్ B₁₂

Question Number : 29 Question Id : 439015779 Question Type : MCQ Option Shuffling : Yes Is Question Mandatory : No Calculator : None Response Time : N.A Think Time : N.A Minimum Instruction Time : 0 Negative Marks Display Text : 1/3 Option Orientation : Vertical

Correct Marks : 1 Wrong Marks : 0.33

According to reports of Central Pollution Control Board of India, what was the average air quality index (AQI) of Delhi in 2021?

సెంట్రల్ పొల్యూషన్ కంట్రోల్ బోర్డు ఆఫ్ ఇండియా నివేదిక ప్రకారం 2021లో ఢిల్లీ సగటు గాలి నాణ్యతా సూచిక (AQI) ఎంత ?

Options :

164

4390153113. ✗ 164

212

4390153114. ✗ 212

144

4390153115. ✓ 144

172

4390153116. ✗ 172

Question Number : 30 Question Id : 439015780 Question Type : MCQ Option Shuffling : Yes Is Question Mandatory : No Calculator : None Response Time : N.A Think Time : N.A Minimum Instruction Time : 0 Negative Marks Display Text : 1/3 Option Orientation : Vertical

Correct Marks : 1 Wrong Marks : 0.33

Which of the following features is NOT common in Chordates and non-chordates?

ఈ క్రింది వాటిలో కార్డేట్లు మరియు నాన్ కార్డేట్లలో ఉమ్మడి కానిది ఏది ?

Options :

Bilaterally symmetrical

4390153117. ✓ ద్వైపాక్షిక సమరూప (Bilaterally symmetrical)

Triploblastic

4390153118. ✗ త్రిస్తరజనితము

Internal fertilisation

4390153119. ✗ అంతర్గత ఫలదీకరణము

Coelomate

4390153120. ✗ అవయవ కుహరము

Question Number : 31 Question Id : 439015781 Question Type : MCQ Option Shuffling : Yes Is Question Mandatory : No
Calculator : None Response Time : N.A Think Time : N.A Minimum Instruction Time : 0 Negative Marks Display Text : 1/3 Option
Orientation : Vertical

Correct Marks : 1 Wrong Marks : 0.33

The cells of which organ in the human body are known as hepatocytes?

మానవ శరీరం లో ఏ అవయవ కణాలను హెపటోసైట్లు అంటారు ?

Options :

Brain

4390153121. ✗ మెదడు

Heart

4390153122. ✗ గుండె

Pancreas

4390153123. ✗ క్లోమ గ్రంథి

Liver

4390153124. ✓ కాలేయం

Question Number : 32 Question Id : 439015782 Question Type : MCQ Option Shuffling : Yes Is Question Mandatory : No
Calculator : None Response Time : N.A Think Time : N.A Minimum Instruction Time : 0 Negative Marks Display Text : 1/3 Option
Orientation : Vertical

Correct Marks : 1 Wrong Marks : 0.33

Which of the following is NOT a part of the human female reproductive system?

ఈ క్రింది వాటిలో మానవ స్త్రీ పునరుత్పత్తి వ్యవస్థ లో భాగం కానిది ఏది?

Options :

Fimbriae

4390153125. ✗ ఫింబ్రియా

Cervix

4390153126. ✗ గర్భాశయ ముఖద్వారం

Vas deferens

4390153127. ✓ శుక్రవాహిక

Endometrium

4390153128. ✗ గర్భాశయాంతస్తరం

Question Number : 33 Question Id : 439015783 Question Type : MCQ Option Shuffling : Yes Is Question Mandatory : No
Calculator : None Response Time : N.A Think Time : N.A Minimum Instruction Time : 0 Negative Marks Display Text : 1/3 Option
Orientation : Vertical

Correct Marks : 1 Wrong Marks : 0.33

What are the basic chemical units with which lipids are made?

లిపిడ్స్ తయారుచేయ బడిన ప్రాథమిక రసాయనిక యూనిట్లు ఏది ?

Options :

Glucose

4390153129. ✗ గ్లూకోజ్

Fatty acid

4390153130. ✓ కొవ్వు ఆమ్లాలు

Amino acids

4390153131. ✗ అమైనోఆమ్లాలు

Fructose

4390153132. ✗ ఫ్రక్టోజ్

Question Number : 34 Question Id : 439015784 Question Type : MCQ Option Shuffling : Yes Is Question Mandatory : No
Calculator : None Response Time : N.A Think Time : N.A Minimum Instruction Time : 0 Negative Marks Display Text : 1/3 Option
Orientation : Vertical

Correct Marks : 1 Wrong Marks : 0.33

The disease 'Osteomalacia' which causes softening of bones is caused by a deficiency of which nutrient in the human diet?

ఎముకలు మృదువుగా మారడానికి కారణమయ్యే 'ఆస్టియోమలాసియా' అనే వ్యాధి మనిషి ఆహారం లో ఏ పోషకం లోపం వల్ల వస్తుంది?

Options :

Vitamin D

4390153133. ✓ విటమిన్ D

Carbohydrates

4390153134. ✗ పిండి పదార్థాలు

Iodine

4390153135. ✗ అయోడిన్

Vitamin C

4390153136. ✖ విటమిన్ C

Question Number : 35 Question Id : 439015785 Question Type : MCQ Option Shuffling : Yes Is Question Mandatory : No
Calculator : None Response Time : N.A Think Time : N.A Minimum Instruction Time : 0 Negative Marks Display Text : 1/3 Option
Orientation : Vertical

Correct Marks : 1 Wrong Marks : 0.33

What is the term used to describe dead animal matter, which may also be actively decaying?

త్వరగా కుళ్ళిపోయే తత్వం కలిగి ఉండే, చనిపోయిన జంతు పదార్థాన్ని వర్ణించడానికి ఉపయోగించే పదం ఏమిటి ?

Options :

Curare

4390153137. ✖ క్యూరేయర్ (Curare)

Benthos

4390153138. ✖ జీవజాలం (Benthos)

Chitin

4390153139. ✖ కైటిన్ (Chitin)

Carrion

4390153140. ✔ కారియన్ (Carrion)

Question Number : 36 Question Id : 439015786 Question Type : MCQ Option Shuffling : Yes Is Question Mandatory : No
Calculator : None Response Time : N.A Think Time : N.A Minimum Instruction Time : 0 Negative Marks Display Text : 1/3 Option
Orientation : Vertical

Correct Marks : 1 Wrong Marks : 0.33

According to the study of the National Disaster Management Authority, out of the 7,516 km long coastline, _____ km is prone to cyclones and tsunamis.

నేషనల్ డిజాస్టర్ మేనేజ్ మెంట్ అథారిటీ వారి అధ్యయనం ప్రకారం 7516 కి. మీ. పొడవైన తీర ప్రాంతం లో, _____ కి. మీ. ప్రాంతం తూఫాన్ మరియు సునామీలకి గురయ్యే అవకాశం ఎక్కువగా ఉంది.

Options :

3,700 km

4390153141. ✖ 3,700 కిమీ

4,700 km

4390153142. ✖ 4,700 కిమీ

5,700 km

4390153143. ✔ 5,700 కిమీ

2,700 km

4390153144. ✖ 2,700 కిమీ

Question Number : 37 Question Id : 439015787 Question Type : MCQ Option Shuffling : Yes Is Question Mandatory : No
Calculator : None Response Time : N.A Think Time : N.A Minimum Instruction Time : 0 Negative Marks Display Text : 1/3 Option
Orientation : Vertical

Correct Marks : 1 Wrong Marks : 0.33

As per the Earthquake Disaster Risk Index (EDRI) prepared by the National Disaster Management Authority (NDMA) in association with IIT-Hyderabad in 2019, how much area of India is vulnerable to moderate to major earthquakes?

2019 లో IIT హైదరాబాద్ తో కలసి నేషనల్(జాతీయ)డిజాస్టర్ మేనేజ్మెంట్ అథారిటీ(ఎన్డిఎంఎ) రూపొందించిన భూకంప విపత్తు ప్రమాద సూచిక (EDRI)ప్రకారం,భారత దేశం లో ని ఎంత ప్రాంతం మధ్యస్థభూకంపాలకుగురి అయ్యే అవకాశం వుంది ?

Options :

- 56%
4390153145. ✓ 56%
- 49%
4390153146. ✗ 49%
- 39%
4390153147. ✗ 39%
- 29%
4390153148. ✗ 29%

Question Number : 38 Question Id : 439015788 Question Type : MCQ Option Shuffling : Yes Is Question Mandatory : No
Calculator : None Response Time : N.A Think Time : N.A Minimum Instruction Time : 0 Negative Marks Display Text : 1/3 Option
Orientation : Vertical

Correct Marks : 1 Wrong Marks : 0.33

In which year Government of India enforced the National Policy on Disaster Management (NPDM)?

భారత ప్రభుత్వం ఏ సంవత్సరం లో విపత్తునిర్వహణ(NPDM)పై జాతీయ విధానాన్ని అమలు చేసింది ?

Options :

- 2007
4390153149. ✗ 2007
- 2009
4390153150. ✓ 2009
- 2011
4390153151. ✗ 2011
- 2013
4390153152. ✗ 2013

Question Number : 39 Question Id : 439015789 Question Type : MCQ Option Shuffling : Yes Is Question Mandatory : No
Calculator : None Response Time : N.A Think Time : N.A Minimum Instruction Time : 0 Negative Marks Display Text : 1/3 Option
Orientation : Vertical

Correct Marks : 1 Wrong Marks : 0.33

Who among the following will play the role of the Head of the National Disaster Management Authority (NDMA) in India?

ఈ క్రింది వారిలో భారతదేశంలో జాతీయ విపత్తు నిర్వహణ అథారిటీ(NDMA) పై అధిపతి పాత్రను ఎవరు పోషిస్తారు ?

Options :

Prime Minister

4390153153. ✓ ప్రధాన మంత్రి

Chief Justice Of India

4390153154. ✗ భారత ప్రధాన నాయకురాలు

President

4390153155. ✗ రాష్ట్రపతి

Union Home Minister

4390153156. ✗ యూనియన్ హోమ్ మినిస్టర్

Question Number : 40 Question Id : 439015790 Question Type : MCQ Option Shuffling : Yes Is Question Mandatory : No
Calculator : None Response Time : N.A Think Time : N.A Minimum Instruction Time : 0 Negative Marks Display Text : 1/3 Option
Orientation : Vertical

Correct Marks : 1 Wrong Marks : 0.33

When was the Disaster Management Act enforced by the Government of India?

భారత ప్రభుత్వం విపత్తు నిర్వహణ చట్టం ని ఎప్పుడు అమలు చేసింది ?

Options :

2007

4390153157. ✗ 2007

2003

4390153158. ✗ 2003

2005

4390153159. ✓ 2005

1999

4390153160. ✗ 1999

Question Number : 41 Question Id : 439015791 Question Type : MCQ Option Shuffling : Yes Is Question Mandatory : No
Calculator : None Response Time : N.A Think Time : N.A Minimum Instruction Time : 0 Negative Marks Display Text : 1/3 Option
Orientation : Vertical

Correct Marks : 1 Wrong Marks : 0.33

In which Seismic zone does Goa fall?

గోవా ఏ భూకంప జోన్ లో వుంది ?

Options :

Zone-III (Moderate Intensity Zone)

4390153161. ✓ Zone-III(మోస్తరు తీవ్రత జోన్) (Moderate Intensity Zone)

Zone-IV (Severe Intensity Zone)

4390153162. ✘ Zone-IV (అధిక తీవ్రత జోన్) (Severe Intensity Zone)

Zone-II (Low-Intensity Zone)

4390153163. ✘ Zone-II (అల్ప తీవ్రత జోన్) (Low-Intensity Zone)

Zone-V (Very Severe Intensity Zone)

4390153164. ✘ Zone-V (అత్యధిక తీవ్రత జోన్)(Very Severe Intensity Zone)

Question Number : 42 Question Id : 439015792 Question Type : MCQ Option Shuffling : Yes Is Question Mandatory : No
Calculator : None Response Time : N.A Think Time : N.A Minimum Instruction Time : 0 Negative Marks Display Text : 1/3 Option
Orientation : Vertical

Correct Marks : 1 Wrong Marks : 0.33

According to the National Disaster Management Authority how much percentage of land in India is prone to floods and river erosion?

నేషనల్(జాతీయ)డిజాస్టర్ మేనేజ్మెంట్ అథారిటీ ప్రకారం భారత దేశంలో వరదలు మరియు నదుల కోతకు గురయ్యే భూమి శాతం ఎంత ?

Options :

12%

4390153165. ✔ 12%

16%

4390153166. ✘ 16%

18%

4390153167. ✘ 18%

20%

4390153168. ✘ 20%

Question Number : 43 Question Id : 439015793 Question Type : MCQ Option Shuffling : Yes Is Question Mandatory : No
Calculator : None Response Time : N.A Think Time : N.A Minimum Instruction Time : 0 Negative Marks Display Text : 1/3 Option
Orientation : Vertical

Correct Marks : 1 Wrong Marks : 0.33

DRR is the concept and practice of reducing disaster risks in India through systematic efforts to analyse and reduce the causal factors of disasters. The full form of DRR is:

DRR అనేది భారతదేశంలో విపత్తుల యొక్క కారణాలను విశ్లేషించడానికి మరియు తగ్గించడానికి క్రమబద్ధమైన ప్రయత్నాల ద్వారా విపత్తులు ప్రమాదాలు తగ్గించడానికి నేర్పుకోవడానికి సంబంధించిన భావన. DRR యొక్క పూర్తి రూపం:

Options :

Disaster Risk Reduction

4390153169. ✔ డిజాస్టర్ ప్రమాదాన్ని తగ్గించడం

Disaster Region Rehabilitation

4390153170. ✘ డిజాస్టర్ విపత్తుప్రాంత పునరావాసం

Disaster Risk Remover

4390153171. ✘ డిజాస్టర్ ప్రమాదాన్ని తొలగించడం

Disaster Risk Region

4390153172. ✘ డిజాస్టర్ విపత్తుప్రాంతం

Question Number : 44 Question Id : 439015794 Question Type : MCQ Option Shuffling : Yes Is Question Mandatory : No
Calculator : None Response Time : N.A Think Time : N.A Minimum Instruction Time : 0 Negative Marks Display Text : 1/3 Option
Orientation : Vertical

Correct Marks : 1 Wrong Marks : 0.33

Which of the following is NOT generally the natural function of the environment?

ఈ క్రింది వాటిలో పర్యావరణానికి సాధారణం కాని పని ఏది ?

Options :

The environment offers resources for production.

4390153173. ✘ పర్యావరణం ఉత్పాదనకు వనరులు అందిస్తుంది.

It sustains life by providing genetic and biodiversity.

4390153174. ✘ ఇదిజన్యు మరియు జీవవైవిధ్యాన్ని అందించడం ద్వారా జీవనాన్ని నిలబెడుతుంది.

The environment enhances the quality of life.

4390153175. ✘ పర్యావరణం జీవనాణ్యతను పెంచుతుంది.

The environment helps in getting rid of the water pollution.

4390153176. ✔ పర్యావరణం నీటి కాలుష్యం నుండి బయటపడానికి సహాయపడుతుంది.

Question Number : 45 Question Id : 439015795 Question Type : MCQ Option Shuffling : Yes Is Question Mandatory : No
Calculator : None Response Time : N.A Think Time : N.A Minimum Instruction Time : 0 Negative Marks Display Text : 1/3 Option
Orientation : Vertical

Correct Marks : 1 Wrong Marks : 0.33

Which of the following is a renewable resource in the environment?

ఈ క్రింది వాటిలో పర్యావరణంలోని పునరుత్పాదక శక్తి వనరు ఏది ?

Options :

Coal

4390153177. ✘ బొగ్గు (కోల్)

Solar energy

4390153178. ✔ సౌర శక్తి

Petroleum

4390153179. ✘ పెట్రోలియం

Iron ore

4390153180. ✘ ఇనుపదాతువు

Question Number : 46 Question Id : 439015796 Question Type : MCQ Option Shuffling : Yes Is Question Mandatory : No
Calculator : None Response Time : N.A Think Time : N.A Minimum Instruction Time : 0 Negative Marks Display Text : 1/3 Option
Orientation : Vertical

Correct Marks : 1 Wrong Marks : 0.33

The 2030 Agenda for Sustainable Development was adopted by all United Nations Member States in the year _____.

స్థిరమైన అభివృద్ధి కోసం 2030 ఎజెండా ను ఐక్యరాజ్యసమితి సభ్య దేశాలన్నీ _____ సంవత్సరంలో ఆమోదించాయి

Options :

2011

4390153181. ✘ 2011

2009

4390153182. ✘ 2009

2015

4390153183. ✔ 2015

2012

4390153184. ✘ 2012

Question Number : 47 Question Id : 439015797 Question Type : MCQ Option Shuffling : Yes Is Question Mandatory : No
Calculator : None Response Time : N.A Think Time : N.A Minimum Instruction Time : 0 Negative Marks Display Text : 1/3 Option
Orientation : Vertical

Correct Marks : 1 Wrong Marks : 0.33

In June 1992, at the Earth Summit in Rio de Janeiro, Brazil, more than 178 countries adopted, a comprehensive plan of action to build a global partnership for sustainable development to improve human lives and protect the environment.

What is the name of this plan?

జూన్ 1992 లో బ్రెజిల్ లో ని రియో డి జనీరోలో జరిగిన ఎర్త్ సమ్మిట్ లో 178 పైగా దేశాలు మానవ జీవితాలను మెరుగుపరచడానికి మరియు పర్యావరణాన్ని రక్షించడానికి స్థిరమైన అభివృద్ధి కోసం ప్రపంచ భాగ్యస్వామ్యాన్ని నిర్మించడానికి ఒక సమగ్ర కార్యాచరణ ప్రణాళిక ను ఆమోదించాయి ఈ ప్రణాళిక పేరు ఏమిటి ?

Options :

Agenda 21

4390153185. ✔ అజెండా (Agenda) 21

Agenda 20

4390153186. ✘ అజెండా (Agenda) 20

Agenda 22

4390153187. ✘ అజెండా (Agenda) 22

Agenda 25

4390153188. ✖ అజెండా (Agenda) 25

Question Number : 48 Question Id : 439015798 Question Type : MCQ Option Shuffling : Yes Is Question Mandatory : No
Calculator : None Response Time : N.A Think Time : N.A Minimum Instruction Time : 0 Negative Marks Display Text : 1/3 Option
Orientation : Vertical

Correct Marks : 1 Wrong Marks : 0.33

In the sustainable development goals adopted by the United Nations, what is goal number three?

ఐక్యరాజ్య సమితి ఆమోదించి న స్థిరమైన అభివృద్ధి లక్ష్యలలో మూడవ లక్ష్యం ఏంటి ?

Options :

Quality education

4390153189. ✖ నాణ్యమైన విద్య

Zero hunger

4390153190. ✖ ఆకలి లేకుండా పోవటం

Good health and well being

4390153191. ✔ మంచి ఆరోగ్యం మరియు శ్రేయస్సు

Gender equality

4390153192. ✖ లింగ సమానత్వం

Question Number : 49 Question Id : 439015799 Question Type : MCQ Option Shuffling : Yes Is Question Mandatory : No
Calculator : None Response Time : N.A Think Time : N.A Minimum Instruction Time : 0 Negative Marks Display Text : 1/3 Option
Orientation : Vertical

Correct Marks : 1 Wrong Marks : 0.33

What occurs when carbon dioxide (CO₂) and other air pollutants collect in the atmosphere and absorb sunlight and solar radiation that have bounced off the earth's surface?

వాతావరణంలో కూడిన బొగ్గుపులుసు వాయువు (CO₂) మరియు ఇతర వాయు కాలుష్య కారకాలు, భూమి ఉపరితలం నుండి పరావర్తనం చెందే సూర్యకాంతి మరియు సౌర వికిరణాలని గ్రహించినప్పుడు ఏమి జరుగుతుంది ?

Options :

Global warming

4390153193. ✔ భూతాపం (Global warming)

Acid rain

4390153194. ✖ ఆమ్ల వర్షాలు (Acid rain)

Thunderstorm

4390153195. ✖ ఉరుములతో కూడిన వర్షం (Thunderstorm)

Rainbow

4390153196. ✖ ఇంద్రధనస్సు (Rainbow)

Question Number : 50 Question Id : 439015800 Question Type : MCQ Option Shuffling : Yes Is Question Mandatory : No
Calculator : None Response Time : N.A Think Time : N.A Minimum Instruction Time : 0 Negative Marks Display Text : 1/3 Option
Orientation : Vertical
Correct Marks : 1 Wrong Marks : 0.33

The United Nations' 2030 Agenda for Sustainable Development has given us a road map for moving from knowledge to action in the form of the _____ Sustainable Development Goals (SDGs).

స్థిరమైన అభివృద్ధి కోసం ఐక్యరాజ్యసమితి యొక్క 2030 అజెండా _____ స్థిరమైన అభివృద్ధి లక్ష్యాల (SDGs). యాపంలో జ్ఞానం నుండి చర్యకు వెళ్లడానికి మనకి ఒక మార్గాన్ని చూపించింది ?

Options :

17

4390153197. ✔ 17

15

4390153198. ✖ 15

13

4390153199. ✖ 13

11

4390153200. ✖ 11

Question Number : 51 Question Id : 439015801 Question Type : MCQ Option Shuffling : Yes Is Question Mandatory : No
Calculator : None Response Time : N.A Think Time : N.A Minimum Instruction Time : 0 Negative Marks Display Text : 1/3 Option
Orientation : Vertical
Correct Marks : 1 Wrong Marks : 0.33

The Millennium Summit held in September 2000 at UN Headquarters in New York led to the elaboration of _____ Millennium Development Goals (MDGs) to reduce extreme poverty by 2015.

న్యూ యార్క్ లోని UN ప్రధాన కార్యాలయం లో సెప్టెంబర్ 2000లో జరిగిన మిలీనియం సమ్మిట్ 2015 నాటికి తీవ్రపెదరికాన్ని తగ్గించడానికి _____ మిలీనియం డెవలప్ మెంట్ గోల్స్ (MDGs) యొక్క ఉల్లేఖనకి దారి తీసింది.

Options :

5

4390153201. ✖ 5

6

4390153202. ✖ 6

8

4390153203. ✔ 8

10

4390153204. ✖ 10

Question Number : 52 Question Id : 439015802 Question Type : MCQ Option Shuffling : Yes Is Question Mandatory : No
Calculator : None Response Time : N.A Think Time : N.A Minimum Instruction Time : 0 Negative Marks Display Text : 1/3 Option
Orientation : Vertical

Correct Marks : 1 Wrong Marks : 0.33

Which International financial institution is funding the Indian government's national groundwater programme, the 'Atal Bhujal Yojana', to help improve groundwater management?

భూగర్భజల నిర్వహణను మెరుగుపర్చడంలో సహాయపడటానికి భారత ప్రభుత్వం యొక్క 'అటల్ భూజల్ యోజనా' కి ఏ అంతర్జాతీయ ఆర్థిక సంస్థ నిధులు సమకూరుస్తుంది ?

Options :

World Bank

4390153205. ✔ ప్రపంచ బ్యాంక్ (World Bank)

International Monetary Fund

4390153206. ✖ అంతర్జాతీయ ద్రవ్య నిధి (International Monetary Fund)

Asian Development Bank

4390153207. ✖ ఆసియన్ డెవలప్ మెంట్ బ్యాంక్ (Asian Development Bank)

Hongkong Shanghai banking corporation

4390153208. ✖ హాంగ్ కాంగ్షాంషై బ్యాంకింగ్ కార్పొరేషన్ (Hongkong Shanghai banking corporation)

Question Number : 53 Question Id : 439015803 Question Type : MCQ Option Shuffling : Yes Is Question Mandatory : No
Calculator : None Response Time : N.A Think Time : N.A Minimum Instruction Time : 0 Negative Marks Display Text : 1/3 Option
Orientation : Vertical

Correct Marks : 1 Wrong Marks : 0.33

The southernmost part of India called "Indira Point" got submerged under seawater during the Tsunami in the year of _____.

"ఇందిరా పాయింట్" అని పేలువబడే భారత దేశం యొక్క దక్షిణాదిభాగం _____ సంవత్సరం లోవచ్చిన సునామీ సమయం లో నీటిలో మునిగి పోయింది ?

Options :

1999

4390153209. ✖ 1999

2002

4390153210. ✖ 2002

2004

4390153211. ✔ 2004

2006

4390153212. ✖ 2006

Question Number : 54 Question Id : 439015804 Question Type : MCQ Option Shuffling : Yes Is Question Mandatory : No
Calculator : None Response Time : N.A Think Time : N.A Minimum Instruction Time : 0 Negative Marks Display Text : 1/3 Option
Orientation : Vertical

Correct Marks : 1 Wrong Marks : 0.33

What is the approximate total length of the coastal line of India, including Lakshadweep and Andaman and Nicobar Islands?

లక్ష్య దీప్ మరియు అండమాన్ నికోబార్ దీవులతో కలుపుకొని భారత దేశం యొక్క మొత్తం సముద్ర తీరం యొక్క సుమారు మొత్తం పొడవు ఎంత ?

Options :

6,517 km

4390153213. ✖ 6,517 కిమీ

7,517 km

4390153214. ✔ 7,517 కిమీ

5,517 km

4390153215. ✖ 5,517 కిమీ

4,517 km

4390153216. ✖ 4,517 కిమీ

Question Number : 55 Question Id : 439015805 Question Type : MCQ Option Shuffling : Yes Is Question Mandatory : No
Calculator : None Response Time : N.A Think Time : N.A Minimum Instruction Time : 0 Negative Marks Display Text : 1/3 Option
Orientation : Vertical

Correct Marks : 1 Wrong Marks : 0.33

Through which of the following states does the standard meridian of India NOT pass?

భారతదేశంలోని ప్రామాణిక మేరీడియన్ (the standard meridian) క్రింది ఏ రాష్ట్రాల గుండా వెళ్ళదు

Options :

Uttar Pradesh

4390153217. ✖ ఉత్తర్ ప్రదేశ్

West Bengal

4390153218. ✔ పశ్చిమ బెంగాల్

Madhya Pradesh

4390153219. ✖ మధ్య ప్రదేశ్

Andhra Pradesh

4390153220. ✖ ఆంధ్రప్రదేశ్

Question Number : 56 Question Id : 439015806 Question Type : MCQ Option Shuffling : Yes Is Question Mandatory : No
Calculator : None Response Time : N.A Think Time : N.A Minimum Instruction Time : 0 Negative Marks Display Text : 1/3 Option
Orientation : Vertical

Correct Marks : 1 Wrong Marks : 0.33

Mawsynram is the wettest place on Earth, with an annual rainfall of _____.

ఈ భూమి మీద అత్యంత తేమ గల ప్రదేశం మాసీన్ రామ్ (Mawsynram) ఈ ప్రదేశం లో పడే వార్షిక వర్షపాతం _____.

Options :

267.4 inch

4390153221. ✘ 267.4 inch

367.4 inch

4390153222. ✘ 367.4 inch

467.4 inch

4390153223. ✔ 467.4 inch

567.4 inch

4390153224. ✘ 567.4 inch

Question Number : 57 Question Id : 439015807 Question Type : MCQ Option Shuffling : Yes Is Question Mandatory : No
Calculator : None Response Time : N.A Think Time : N.A Minimum Instruction Time : 0 Negative Marks Display Text : 1/3 Option
Orientation : Vertical

Correct Marks : 1 Wrong Marks : 0.33

Which of the following rivers rises in the western Himalayas in the Uttarakhand state of India, and drains into the Sundarbans delta in the Bay of Bengal?

భారత దేశం లోని ఉత్తర ఖండ్ రాష్ట్రం లోపశ్చిమ హిమాలయలలో ఈ క్రింది నదులలో ఏది పుడుతుంది మరియు బంగాళాఖాతంలోని సుందర్బన్ డెల్టాలోకి వప్రవహిస్తుంది?

Options :

Ganga

4390153225. ✔ గంగా

Yamuna

4390153226. ✘ యమునా

Godavari

4390153227. ✘ గోదావరి

Brahmaputra

4390153228. ✘ బ్రహ్మపుత్ర

Question Number : 58 Question Id : 439015808 Question Type : MCQ Option Shuffling : Yes Is Question Mandatory : No
Calculator : None Response Time : N.A Think Time : N.A Minimum Instruction Time : 0 Negative Marks Display Text : 1/3 Option
Orientation : Vertical

Correct Marks : 1 Wrong Marks : 0.33

Which of the following statements is NOT true about the Siachen glacier?

సియాచిన్ గ్లాసియర్ గురించి ఈ క్రింది వాటిలో నిజంకానిది ఏది ?

Options :

It is the largest glacier in India.

4390153229. ✘ ఇది భారతదేశంలోని అతి పెద్ద గ్లాసియర్

It has a length of 75.6 km.

4390153230. ✘ ఇది 75.6 కిమీ పొడవుకలిగి వుంటుంది

It is the third longest glacier in the Karakoram.

4390153231. ✔ ఇది కారాకోరాంపర్వత శ్రేణి లో మూడోవ పెద్ద గ్లాసియర్

It is the second-longest glacier in the world's non-polar areas.

4390153232. ✘ ఇది ప్రపంచంలోనే ధృవల వద్ద కాకుండా ఉన్న రెండో అతి పెద్ద గ్లాసియర్

Question Number : 59 Question Id : 439015809 Question Type : MCQ Option Shuffling : Yes Is Question Mandatory : No
Calculator : None Response Time : N.A Think Time : N.A Minimum Instruction Time : 0 Negative Marks Display Text : 1/3 Option
Orientation : Vertical

Correct Marks : 1 Wrong Marks : 0.33

Mahe is the smallest district in India with an area of 9 km². Where is this district located?

మహే 9 km² వైశాల్యం గలభారతదేశంలోని అతి చిన్న జిల్లా. ఈ జిల్లా ఎక్కడ వుంది ?

Options :

Maharashtra

4390153233. ✘ మహారాష్ట్ర

Karnataka

4390153234. ✘ కర్నాటక

Goa

4390153235. ✘ గోవా

Kerala

4390153236. ✔ కేరళ

Question Number : 60 Question Id : 439015810 Question Type : MCQ Option Shuffling : Yes Is Question Mandatory : No
Calculator : None Response Time : N.A Think Time : N.A Minimum Instruction Time : 0 Negative Marks Display Text : 1/3 Option
Orientation : Vertical

Correct Marks : 1 Wrong Marks : 0.33

Majuli Island is the largest river island in India. In which state is this island located?

మజులి ద్వీపం భారతదేశంలోని అతిపెద్ద నదీ ద్వీపం. ఈ ద్వీపం ఏ రాష్ట్రంలో ఉంది ?

Options :

Assam

4390153237. ✓ అస్సాం

West Bengal

4390153238. ✗ వెస్ట్ బెంగాల్

Punjab

4390153239. ✗ పంజాబ్

Andhra Pradesh

4390153240. ✗ ఆంధ్రప్రదేశ్

Question Number : 61 Question Id : 439015811 Question Type : MCQ Option Shuffling : Yes Is Question Mandatory : No
Calculator : None Response Time : N.A Think Time : N.A Minimum Instruction Time : 0 Negative Marks Display Text : 1/3 Option
Orientation : Vertical

Correct Marks : 1 Wrong Marks : 0.33

What is the name of the magazine/newspaper for which Mutnuri Krishna Rao served as an editor in 1907?

1907 లో ముట్నూరి కృష్ణ రావు గారు ఎడిటర్ గా పనిచేసిన పత్రిక/వార్తా పత్రిక పేరు ఏంటి ?

Options :

Shiva Patrika

4390153241. ✗ శివ పత్రిక

Swatantra Patrika

4390153242. ✗ స్వతంత్ర పత్రిక

Krishna Patrika

4390153243. ✓ కృష్ణ పత్రిక

Viplava Patrika

4390153244. ✗ విప్లవ పత్రిక

Question Number : 62 Question Id : 439015812 Question Type : MCQ Option Shuffling : Yes Is Question Mandatory : No
Calculator : None Response Time : N.A Think Time : N.A Minimum Instruction Time : 0 Negative Marks Display Text : 1/3 Option
Orientation : Vertical

Correct Marks : 1 Wrong Marks : 0.33

The first Andhra conference (with regards to the Andhra movement) was held on May 26th, 1913 under the
presidentship of BN Sharma at _____.

మొదటి ఆంధ్ర సదస్సు (ఆంధ్ర ఉద్యమం కి సంబంధించి) 26 మే 1913 న BN శర్మ అధ్యక్షతన _____ వద్ద జరిగింది ?

Options :

Tadepalligudem

4390153245. ✗ తాడేపల్లిగూడం

Visakhapatnam

4390153246. ✘ విశాఖపట్టణం

Kakinada

4390153247. ✘ కాకినాడ

Bapatla

4390153248. ✔ బాపట్ల

Question Number : 63 Question Id : 439015813 Question Type : MCQ Option Shuffling : Yes Is Question Mandatory : No
Calculator : None Response Time : N.A Think Time : N.A Minimum Instruction Time : 0 Negative Marks Display Text : 1/3 Option
Orientation : Vertical

Correct Marks : 1 Wrong Marks : 0.33

The fifth session of Andhra Mahasabha was held at Nellore in 1917 under the presidency of _____.

ఆంధ్ర మహాసభ యొక్క ఐదవ సమావేశం 1917 లో నెల్లూరులో _____ అధ్యక్షతన జరిగింది.

Options :

Konda Venkatappayya

4390153249. ✔ కొండ వెంకట్టప్పయ్య

AS Krishna Rao

4390153250. ✘ AS కృష్ణారావు

Gade Raghava Rao

4390153251. ✘ గాదెరాఘవ రావు

Nyapathi Subba Rao

4390153252. ✘ న్యపతిసుబ్బారావు

Question Number : 64 Question Id : 439015814 Question Type : MCQ Option Shuffling : Yes Is Question Mandatory : No
Calculator : None Response Time : N.A Think Time : N.A Minimum Instruction Time : 0 Negative Marks Display Text : 1/3 Option
Orientation : Vertical

Correct Marks : 1 Wrong Marks : 0.33

In 1928, who submitted a report to the central council explaining why Madras should not belong to the Tamils?

1928 లో మద్రాసు ఆమిళులకు ఎందుకు చెందకూడదో వివరిస్తూ కేంద్ర మండలికి నివేదికను సమర్పించింది ఎవరు ?

Options :

C Sankaran Nair

4390153253. ✔ సి శంకరన్ నాయర్

Panagal Raja

4390153254. ✘ పానగల్ రాజు

Bulusu Sambamurthy

4390153255. ✘ బులుసు సాంబామూర్తి

Potti Sriramulu

4390153256. ✖ పొట్టి శ్రీ రాములు

Question Number : 65 Question Id : 439015815 Question Type : MCQ Option Shuffling : Yes Is Question Mandatory : No
Calculator : None Response Time : N.A Think Time : N.A Minimum Instruction Time : 0 Negative Marks Display Text : 1/3 Option
Orientation : Vertical

Correct Marks : 1 Wrong Marks : 0.33

In 1964, Neelam Sanjiva Reddy joined Lal Bahadur Shastri's government as the Union Minister for which portfolio?

1964 లో నీలం సంజీవ రెడ్డి ఏ పోర్టుపోలియో కోసం కేంద్రమంత్రిగాలాల్ బహదూర్ శాస్త్రి ప్రభుత్వం లో చేరారు ?

Options :

Steel and Mines

4390153257. ✔ ఇనుము మరియు గనులు

Home affairs

4390153258. ✖ గృహ వ్యవహారాల

Finance

4390153259. ✖ ఆర్థిక (ఫైనాన్స్)

Human resources development

4390153260. ✖ మానవ వనరుల అభివృద్ధి

Question Number : 66 Question Id : 439015816 Question Type : MCQ Option Shuffling : Yes Is Question Mandatory : No
Calculator : None Response Time : N.A Think Time : N.A Minimum Instruction Time : 0 Negative Marks Display Text : 1/3 Option
Orientation : Vertical

Correct Marks : 1 Wrong Marks : 0.33

Former Chief Minister of Andhra state Tanguturi Prakasham became the Municipal Chairman of which town when he was just 31 years?

ఆంధ్ర రాష్ట్ర మాజీ ముఖ్యమంత్రి టంగుటూరి ప్రకాశం కేవలం 31 సంవత్సరాలవయస్సు లో ఏ పట్టణానికి మున్సిపల్ చైర్మన్ అయ్యారు ?

Options :

Vijayawada

4390153261. ✖ విజయవాడ

Guntur

4390153262. ✖ గుంటూరు

Rajahmundry

4390153263. ✔ రాజమండ్రి

Visakhapatnam

4390153264. ✖ విశాఖపట్నం

Question Number : 67 Question Id : 439015817 Question Type : MCQ Option Shuffling : Yes Is Question Mandatory : No
Calculator : None Response Time : N.A Think Time : N.A Minimum Instruction Time : 0 Negative Marks Display Text : 1/3 Option
Orientation : Vertical
Correct Marks : 1 Wrong Marks : 0.33

In 1956, Burgula Ramakrishna Rao, the first Chief Minister of Hyderabad state also served as the first Governor of which state?

1956 లో హైదరాబాద్ రాష్ట్ర మొదటి ముఖ్యమంత్రి బూర్గుల రామకృష్ణారావు ఏ రాష్ట్రానికి మొదటి గవర్నర్ గా కూడా పనిచేశారు ?

Options :

Goa

4390153265. ✘ గోవా

Gujarat

4390153266. ✘ గుజరాత్

Kerala

4390153267. ✔ కేరళ

Karnataka

4390153268. ✘ కర్ణాటక

Question Number : 68 Question Id : 439015818 Question Type : MCQ Option Shuffling : Yes Is Question Mandatory : No
Calculator : None Response Time : N.A Think Time : N.A Minimum Instruction Time : 0 Negative Marks Display Text : 1/3 Option
Orientation : Vertical
Correct Marks : 1 Wrong Marks : 0.33

Andhra state was created in India on _____ from the Telugu-speaking northern districts of Madras Presidency.

మద్రాసు ప్రెసిడెన్సీలోని తెలుగు మాట్లాడే ఉత్తర జిల్లాల నుండి _____న భారత దేశం లో ఆంధ్ర రాష్ట్రం ఏర్పడింది ?

Options :

October 1, 1953

4390153269. ✔ అక్టోబర్ 1, 1953

November 1, 1953

4390153270. ✘ నవంబర్ 1, 1953

December 1, 1953

4390153271. ✘ డిసెంబర్ 1, 1953

September 1, 1953

4390153272. ✘ సెప్టెంబర్ 1, 1953

Question Number : 69 Question Id : 439015819 Question Type : MCQ Option Shuffling : Yes Is Question Mandatory : No
Calculator : None Response Time : N.A Think Time : N.A Minimum Instruction Time : 0 Negative Marks Display Text : 1/3 Option
Orientation : Vertical
Correct Marks : 1 Wrong Marks : 0.33

Bhogaraju Pattabhi Sitaramayya who took part in the Home rule movement was appointed as the Governor of _____ from 1952 to 1957.

హోం రూల్ ఉద్యమం లో పాల్గొన్న భోగరాజుపట్టాభి సీతా రామాయ్య 1952నుండి 1957.వరకు _____ గవర్నర్ గా నియమితులయ్యారు

Options :

Maharashtra

4390153273. ✘ మహారాష్ట్ర

Madhya Pradesh

4390153274. ✔ మధ్యప్రదేశ్

Kerala

4390153275. ✘ కేరళ

Karnataka

4390153276. ✘ కర్నాటక

Question Number : 70 Question Id : 439015820 Question Type : MCQ Option Shuffling : Yes Is Question Mandatory : No Calculator : None Response Time : N.A Think Time : N.A Minimum Instruction Time : 0 Negative Marks Display Text : 1/3 Option Orientation : Vertical

Correct Marks : 1 Wrong Marks : 0.33

What was the total number of collectorates in Andhra in 1856?

1856 లో ఆంధ్రప్రదేశ్ లోని మొత్తం కలెక్టరేట్ల సంఖ్య ఎంత?

Options :

8

4390153277. ✔ 8

6

4390153278. ✘ 6

10

4390153279. ✘ 10

12

4390153280. ✘ 12

Question Number : 71 Question Id : 439015821 Question Type : MCQ Option Shuffling : Yes Is Question Mandatory : No Calculator : None Response Time : N.A Think Time : N.A Minimum Instruction Time : 0 Negative Marks Display Text : 1/3 Option Orientation : Vertical

Correct Marks : 1 Wrong Marks : 0.33

In which year did the Rampa rebellion take place in the Godavari district of Madras Presidency?

మద్రాస్ ప్రెసిడెన్సీ లోని గోదావరి జిల్లాలో రంప తిరుగుబాటు ఏ సంవత్సరం లో జరిగింది ?

Options :

1851

4390153281. ✖ 1851

1854

4390153282. ✖ 1854

1879

4390153283. ✔ 1879

1866

4390153284. ✖ 1866

Question Number : 72 Question Id : 439015822 Question Type : MCQ Option Shuffling : Yes Is Question Mandatory : No Calculator : None Response Time : N.A Think Time : N.A Minimum Instruction Time : 0 Negative Marks Display Text : 1/3 Option Orientation : Vertical

Correct Marks : 1 Wrong Marks : 0.33

Which Chief Minister of the Madras Presidency in the early 1920s suggested that the Cooum River should be kept as a boundary, giving the northern portion to the Andhras and the southern portion to the Tamils?

1920 ప్రారంభంలో మద్రాసు ప్రెసిడెన్సీకి చెందిన ఏ ముఖ్యమంత్రికూయం నదిని సరిహద్దుగా ఉంచి ఉత్తర భాగాన్ని ఆంధ్రులకు, దక్షిణ భాగాన్ని తమిళులకు ఇవ్వాలి అని సూచించారు?

Options :

Munuswamy Naidu

4390153285. ✖ మునుస్వామి నాయుడు

C Rajagopalchari

4390153286. ✖ C రాజ గోపాలా చారి

Ramaswamy Reddiar

4390153287. ✖ రామస్వామీ రెడ్డియార్

Panagal Raja

4390153288. ✔ పానగల్ రాజు

Question Number : 73 Question Id : 439015823 Question Type : MCQ Option Shuffling : Yes Is Question Mandatory : No Calculator : None Response Time : N.A Think Time : N.A Minimum Instruction Time : 0 Negative Marks Display Text : 1/3 Option Orientation : Vertical

Correct Marks : 1 Wrong Marks : 0.33

The Economic Development Board is the single point of contact for all investments in the Indian state of Andhra Pradesh as per the Andhra Pradesh Economic Development Board Act passed in the year _____.

_____ సంవత్సరంలో ఆమోదించబడిన ఆంధ్ర ప్రదేశ్ ఎకనామిక్ డెవలప్మెంట్ బోర్డు చట్టం ప్రకారం భారత దేశంలోని ఆంధ్ర ప్రదేశ్ లోని అన్ని పెట్టుబడుల కోసం సంప్రదించడానికి ఆర్థిక అభివృద్ధి మండల్ ఏక స్థానం

Options :

2018

4390153289. ✔ 2018

2017

4390153290. ✖ 2017

2016

4390153291. ✖ 2016

2015

4390153292. ✖ 2015

Question Number : 74 Question Id : 439015824 Question Type : MCQ Option Shuffling : Yes Is Question Mandatory : No Calculator : None Response Time : N.A Think Time : N.A Minimum Instruction Time : 0 Negative Marks Display Text : 1/3 Option Orientation : Vertical

Correct Marks : 1 Wrong Marks : 0.33

EED is a division under the Economic Development Board which promotes Andhra Pradesh as an investment destination to the global community in international forums. The full form of EED is:

EED అనేది ఎకనామిక్ డెవలప్ మెంట్ లోని ఒక విభాగం, ఇది అంతర్జాతీయ ఫోరంల లో ప్రపంచానికి ఆంధ్ర ప్రదేశ్ ను పెట్టుబడి గమ్యస్థానంగా ప్రోత్సహిస్తుంది EED యొక్క పూర్తి రూపం

Options :

External Entrepreneurship Division

4390153293. ✖ ఎక్స్టర్నల్ ఆంట్రప్రెన్యూర్షిప్ డివిజన్ (External Entrepreneurship Division)

Elite Engagement Division

4390153294. ✖ ఎలైట్ ఎంగేజ్మెంట్ డివిజన్ (Elite Engagement Division)

External Engagement Division

4390153295. ✔ ఎక్స్టర్నల్ ఎంగేజ్మెంట్ డివిజన్ (External Engagement Division)

Entrepreneurship Engagement Division

4390153296. ✖ ఆంట్రప్రెన్యూర్షిప్ ఎంగేజ్మెంట్ డివిజన్ (Entrepreneurship Engagement Division)

Question Number : 75 Question Id : 439015825 Question Type : MCQ Option Shuffling : Yes Is Question Mandatory : No Calculator : None Response Time : N.A Think Time : N.A Minimum Instruction Time : 0 Negative Marks Display Text : 1/3 Option Orientation : Vertical

Correct Marks : 1 Wrong Marks : 0.33

During the reign of which Chief Minister did the Andhra Pradesh government develop a comprehensive e-governance project called e-Pragati simplifying the process of delivery of government and citizen services?

ఏ ముఖ్యమంత్రి హయాంలో ఆంధ్ర ప్రదేశ్ ప్రభుత్వం ప్రభుత్వ మరియు పౌరసేవలను సులభతరంగా అందించే ప్రక్రియను ఇ -ప్రగతి అనే సమగ్ర ఇ- గవర్నెన్స్ ప్రాజెక్టుని అభివృద్ధిపరిచింది ?

Options :

Rosaiah

4390153297. ✖ రోశయ్య

YS Rajashekara Reddy

4390153298. ✘ YS రాజశేఖర్ రెడ్డి

Chandrababu Naidu

4390153299. ✔ చంద్రబాబు నాయుడు

Kotla Vijayabhaskar Reddy

4390153300. ✘ కోట్ల విజయ భాస్కర్ రెడ్డి

Question Number : 76 Question Id : 439015826 Question Type : MCQ Option Shuffling : Yes Is Question Mandatory : No Calculator : None Response Time : N.A Think Time : N.A Minimum Instruction Time : 0 Negative Marks Display Text : 1/3 Option Orientation : Vertical

Correct Marks : 1 Wrong Marks : 0.33

The Aerospace and Defence Manufacturing Policy 2015-20 developed by the government of Andhra Pradesh, aims to generate at least 5,000 additional highly skilled employment opportunities and attract new investments of at least _____ in this sector by 2020.

ఆంధ్ర ప్రదేశ్ ప్రభుత్వం ఏర్పటాచేసిన ఏరో స్పేస్ మరియు డిఫెన్స్ న్యూస్ట్రాక్చర్ రంగంపాలసీ 2015-20, 2020 నాటికి కనీసం 5,000 అదనపు అత్యంత నైపుణ్యం కలిగిన ఉపాధి అవకాశాలను సృష్టించడం మరియు ఈ రంగంలో కనీసం _____ కోట్ల పెట్టుబడులను ఆకర్షించడాన్ని లక్ష్యంగా పెట్టుకుంది.

Options :

10,000 crores

4390153301. ✘ 10,000 కోట్లు

20,000 crores

4390153302. ✔ 20,000 కోట్లు

15,000 crores

4390153303. ✘ 15,000 కోట్లు

5,000 crores

4390153304. ✘ 5,000 కోట్లు

Question Number : 77 Question Id : 439015827 Question Type : MCQ Option Shuffling : Yes Is Question Mandatory : No Calculator : None Response Time : N.A Think Time : N.A Minimum Instruction Time : 0 Negative Marks Display Text : 1/3 Option Orientation : Vertical

Correct Marks : 1 Wrong Marks : 0.33

Which financial institution is funding the government of Andhra Pradesh for developing infrastructure in the Visakhapatnam-Chennai Industrial Corridor (VCIC)?

విశాఖపట్టణం -చెన్నై యి పారిశ్రామికకారిడార్(VCIC)లో మౌలిక సదుపాయాలను అభివృద్ధి చేయడానికి ఆంధ్రప్రదేశ్ ప్రభుత్వానికి ఏ ఆర్థిక సంస్థనిదులు సమకూరుస్తుంది?

Options :

Asian Development Bank

4390153305. ✔ ఏషియన్ డెవలప్ మెంట్ బ్యాంక్ (Asian Development Bank)

World Bank

4390153306. ✖ ప్రపంచ బ్యాంక్ (World Bank)

International Monetary Fund

4390153307. ✖ అంతర్జాతీయ ద్రవ్య నిధి(International Monetary Fund)

European Investment Bank

4390153308. ✖ యూరోపియన్ ఇన్వెస్ట్మెంట్ బ్యాంక్ (European Investment Bank)

Question Number : 78 Question Id : 439015828 Question Type : MCQ Option Shuffling : Yes Is Question Mandatory : No Calculator : None Response Time : N.A Think Time : N.A Minimum Instruction Time : 0 Negative Marks Display Text : 1/3 Option Orientation : Vertical

Correct Marks : 1 Wrong Marks : 0.33

The Micro Small and Medium Enterprises (MSME) Policy 2015-20 of the government of Andhra Pradesh aims to generate new employment opportunities for at least _____ people.

ఆంధ్ర ప్రదేశ్ యొక్క చిన్న మరియు మధ్య తరహా ఎంటర్ ప్రైజెస్ పాలసీ (MSME)2015-20 కనీసం_____ మందికి కొత్త ఉపాది అవకాశాలను కల్పించడం లక్ష్యంగా పెట్టుకుంది ?

Options :

2.5 lakhs

4390153309. ✖ 2.5 లక్షలు

3.5 lakhs

4390153310. ✔ 3.5 లక్షలు

4.5 lakhs

4390153311. ✖ 4.5 లక్షలు

6.5 lakhs

4390153312. ✖ 6.5 లక్షలు

Question Number : 79 Question Id : 439015829 Question Type : MCQ Option Shuffling : Yes Is Question Mandatory : No Calculator : None Response Time : N.A Think Time : N.A Minimum Instruction Time : 0 Negative Marks Display Text : 1/3 Option Orientation : Vertical

Correct Marks : 1 Wrong Marks : 0.33

Under the Micro Small and Medium Enterprises (MSME) Policy 2015-20 of Government of Andhra Pradesh, how much rebate is provided in land cost limited to ₹10 lakh in Industrial Estates/Parks?

ఆంధ్ర ప్రదేశ్ యొక్క చిన్న మరియు మధ్య తరహా ఎంటర్ ప్రైజెస్ పాలసీ (MSME)2015-20 ప్రకారం, ఇండస్ట్రియల్ ఎస్టేట్లు / పార్కులలో ₹10 లక్షలకు పరమితి గల భూమి ధరలో ఎంత రాయితీ అందించబడుతుంది?

Options :

10%

4390153313. ✖ 10%

15%

4390153314. ✖ 15%

25%

4390153315. ✔ 25%

30%

4390153316. ✖ 30%

Question Number : 80 Question Id : 439015830 Question Type : MCQ Option Shuffling : Yes Is Question Mandatory : No
Calculator : None Response Time : N.A Think Time : N.A Minimum Instruction Time : 0 Negative Marks Display Text : 1/3 Option
Orientation : Vertical

Correct Marks : 1 Wrong Marks : 0.33

D-Krishi is an Aadhar-enabled _____ distribution system developed by the government of Andhra Pradesh.

డి -కృషి అనేది ఆంధ్రప్రదేశ్ పంచాయితీ రాజ్ ద్వారా రూపొందించబడిన ఆధార్-ఆధారిత _____ పంపిణీ వ్యవస్థ

Options :

seeds

4390153317. ✔ విత్తనాలు (Seeds)

fertilisers

4390153318. ✖ ఎరువులు (fertilisers)

water

4390153319. ✖ నీరు (Water)

land

4390153320. ✖ భూమి (Land)

Question Number : 81 Question Id : 439015831 Question Type : MCQ Option Shuffling : Yes Is Question Mandatory : No
Calculator : None Response Time : N.A Think Time : N.A Minimum Instruction Time : 0 Negative Marks Display Text : 1/3 Option
Orientation : Vertical

Correct Marks : 1 Wrong Marks : 0.33

What is the name of the e-governance initiative conceptualised by the then-District collector of Ranga Reddy district in November 2005?

నవంబర్ 2005 లో అప్పటి రంగారెడ్డి జిల్లా కాలెక్టర్ చొరవతో మొదటగా రూపొందించబడిన ఈ -గవర్నన్స్ పేరు ఏమిటి ?

Options :

Prajavani

4390153321. ✔ ప్రజావాణి

Prajarajyam

4390153322. ✖ ప్రజారాజ్యం

Prajabandhu

4390153323. ✖ ప్రజాబంధు

Prajaseva

4390153324. ✖ ప్రజాసేవ

Question Number : 82 Question Id : 439015832 Question Type : MCQ Option Shuffling : Yes Is Question Mandatory : No Calculator : None Response Time : N.A Think Time : N.A Minimum Instruction Time : 0 Negative Marks Display Text : 1/3 Option Orientation : Vertical

Correct Marks : 1 Wrong Marks : 0.33

A supercomputer named _____ was inaugurated in May 2022 at NIT Tiruchirappalli under the National Supercomputing Mission (NSM).

మే 2022 లో _____ అనే సూపర్ కంప్యూటర్ ను నేషనల్ సూపర్ కంప్యూటింగ్ మిషన్ (NSM) క్రింద NIT తిరుచిరాపల్లిలో ప్రారంభించారు.

Options :

Param Porul

4390153325. ✔ పరమ్ పోరుల్ (Param Porul)

Param Vikram

4390153326. ✖ పరమ్ విక్రమ్ (Param Vikram)

Param Kalam

4390153327. ✖ పరమ్ కలామ్ (Param Kalam)

Param Raman

4390153328. ✖ పరమ్ రామన్ (Param Raman)

Question Number : 83 Question Id : 439015833 Question Type : MCQ Option Shuffling : Yes Is Question Mandatory : No Calculator : None Response Time : N.A Think Time : N.A Minimum Instruction Time : 0 Negative Marks Display Text : 1/3 Option Orientation : Vertical

Correct Marks : 1 Wrong Marks : 0.33

Jalayagnam scheme launched by the Andhra Pradesh government in 2004 envisages _____ irrigation projects mainly on the Krishna, Godavari and Pennar rivers and their tributaries.

ఆంధ్ర ప్రదేశ్ ప్రభుత్వం 2004 లో ప్రారంభించిన జలయజ్ఞం పథకం ప్రధానంగా కృష్ణ, గోదావరి మరియు పెన్నా నదులు మరియు వాటి ఉపనదులు పై _____ నీటిపారుదల ప్రాజెక్టులను ఊహించినది ?

Options :

56

4390153329. ✖ 56

76

4390153330. ✖ 76

86

4390153331. ✔ 86

4390153332. ✖ 106

Question Number : 84 Question Id : 439015834 Question Type : MCQ Option Shuffling : Yes Is Question Mandatory : No Calculator : None Response Time : N.A Think Time : N.A Minimum Instruction Time : 0 Negative Marks Display Text : 1/3 Option Orientation : Vertical

Correct Marks : 1 Wrong Marks : 0.33

A division Bench of the High Court headed by Chief Justice Prashant Kumar Mishra comprising Justice M Satyanarayana Murthy on March 2022 refused to issue interim orders against the proposed creation of 13 new districts. The petitioners argued that the G.Os. given for the creation of new districts were in violation of Article _____ of the Constitution.

13 కొత్త జిల్లాలకు ఏర్పాటుకు వ్యతిరేకంగా మధ్యంతర ఉత్తర్వులు తీర్పు ఇవ్వడానికి మార్చి 2022లో జస్టిస్ M సత్యనారాయణ మూర్తితో కూడిన హై కోర్ట్ ప్రధాన న్యాయమూర్తి ప్రశాంత్ కుమార్ మిశ్రా నేతృత్వంలోని డివిజన్ బెంచ్ నిరాకరించింది. పిటిషన్లు వదిలించుకుంటూ ఈ G.Oలు కొత్త జిల్లాల ఏర్పాటు కోసం ఇచ్చిన రాజ్యాంగం ఆర్టికల్ _____ ని ఉల్లంఘించాయి అని అన్నారు

Options :

371D

4390153333. ✔ 371D

361D

4390153334. ✖ 361D

351D

4390153335. ✖ 351D

341D

4390153336. ✖ 341D

Question Number : 85 Question Id : 439015835 Question Type : MCQ Option Shuffling : Yes Is Question Mandatory : No Calculator : None Response Time : N.A Think Time : N.A Minimum Instruction Time : 0 Negative Marks Display Text : 1/3 Option Orientation : Vertical

Correct Marks : 1 Wrong Marks : 0.33

In which plateau does the state of Andhra Pradesh fall?

ఆంధ్ర ప్రదేశ్ రాష్ట్రం ఏ పీఠభూమిలో వుంది ?

Options :

Deccan plateau

4390153337. ✔ డెక్కన్ పీఠభూమి

Marwar plateau

4390153338. ✖ మారవార్ పీఠభూమి

Chota Nagpur plateau

4390153339. ✖ చోటా నాగ్ పూర్ పీఠభూమి

Baghelkhand plateau

4390153340. ✖ బాఘెల్ ఖండ్ పీఠభూమి

Question Number : 86 Question Id : 439015836 Question Type : MCQ Option Shuffling : Yes Is Question Mandatory : No
Calculator : None Response Time : N.A Think Time : N.A Minimum Instruction Time : 0 Negative Marks Display Text : 1/3 Option
Orientation : Vertical

Correct Marks : 1 Wrong Marks : 0.33

What is the approximate length of the coastline for the state of Andhra Pradesh?

ఆంధ్ర ప్రదేశ్ రాష్ట్రం సుమారుగా ఎంత సముద్ర తీర పొడువు ను కల్గి వుంది?

Options :

774 km

4390153341. ✖ 774 కి .మీ

874 km

4390153342. ✖ 874 కి .మీ

974 km

4390153343. ✔ 974 కి .మీ

1074 km

4390153344. ✖ 1074 కి.మీ

Question Number : 87 Question Id : 439015837 Question Type : MCQ Option Shuffling : Yes Is Question Mandatory : No
Calculator : None Response Time : N.A Think Time : N.A Minimum Instruction Time : 0 Negative Marks Display Text : 1/3 Option
Orientation : Vertical

Correct Marks : 1 Wrong Marks : 0.33

Besides one major Port i.e. Visakhapatnam Port, the state of Andhra Pradesh has _____ non-major port locations.

ఒక ప్రధాన నౌకాశ్రయమైన విశాఖపట్నం పోర్ట్ తో పాటు ఆంధ్ర ప్రదేశ్ రాష్ట్రం _____ ప్రధానేతర పోర్టులు కలిగి వుంది ?

Options :

6

4390153345. ✖ 6

8

4390153346. ✖ 8

10

4390153347. ✖ 10

14

4390153348. ✔ 14

Question Number : 88 Question Id : 439015838 Question Type : MCQ Option Shuffling : Yes Is Question Mandatory : No
Calculator : None Response Time : N.A Think Time : N.A Minimum Instruction Time : 0 Negative Marks Display Text : 1/3 Option
Orientation : Vertical

Correct Marks : 1 Wrong Marks : 0.33

Andhra Pradesh is the sole producer of which of the following minerals in India?

భారత దేశం లోనికూ క్రింది వాటిలో ఏ ఖనిజాన్ని ఉత్పత్తి చేసే ఏకైక రాష్ట్రం ఆంధ్రప్రదేశ్ ?

Options :

Apatite

4390153349. ✓ అపాటైట్ (Apatite)

Calcite

4390153350. ✗ కాలైట్ (Calcite)

Bauxite

4390153351. ✗ బక్సైట్ (Bauxite)

Dolomite

4390153352. ✗ డోలోమైట్ (Dolomite)

Question Number : 89 Question Id : 439015839 Question Type : MCQ Option Shuffling : Yes Is Question Mandatory : No
Calculator : None Response Time : N.A Think Time : N.A Minimum Instruction Time : 0 Negative Marks Display Text : 1/3 Option
Orientation : Vertical

Correct Marks : 1 Wrong Marks : 0.33

Kadapa district (YSR district) in Andhra Pradesh is rich in which of the following minerals?

ఆంధ్రప్రదేశ్ లోని కడప జిల్లా (YSR district)లో క్రింది వాటిలో ఏ ఖనిజం ఎక్కువగా లభిస్తుంది ?

Options :

Apatite

4390153353. ✗ అపాటైట్ (Apatite)

Ball clay

4390153354. ✗ బాల్ క్లే (Ball clay)

Asbestos

4390153355. ✓ ఆస్బెస్టాస్ (Asbestos)

Corundum

4390153356. ✗ కోరండం (Corundum)

Question Number : 90 Question Id : 439015840 Question Type : MCQ Option Shuffling : Yes Is Question Mandatory : No
Calculator : None Response Time : N.A Think Time : N.A Minimum Instruction Time : 0 Negative Marks Display Text : 1/3 Option
Orientation : Vertical

Correct Marks : 1 Wrong Marks : 0.33

By 2019, how much percentage of Barytes production in India is contributed by the state of Andhra Pradesh?

2019 నాటికిభారత దేశం లో బరైట్స్ ఉత్పత్తి లోఆంధ్ర ప్రదేశ్ రాష్ట్రంఎంత వాటా కలిగి వుంది ?

Options :

22%

4390153357. ✖ 22%

32%

4390153358. ✖ 32%

82%

4390153359. ✖ 82%

92%

4390153360. ✔ 92%

Question Number : 91 Question Id : 439015841 Question Type : MCQ Option Shuffling : Yes Is Question Mandatory : No Calculator : None Response Time : N.A Think Time : N.A Minimum Instruction Time : 0 Negative Marks Display Text : 1/3 Option Orientation : Vertical

Correct Marks : 1 Wrong Marks : 0.33

The total length of the Pennar river from the head to its outfall into the Bay of Bengal in the Nellore district is 597 km out of which 61 km flows in _____ and 536 km in Andhra Pradesh.

నెల్లూరు జిల్లాలో మొదలయ్యి బంగాళాఖాతంలోకి కలిసిపోయే వరకుపెన్నార్ నది యొక్క మొత్తం పొడవు 597 కి.మీ. అందులో 61 కి.మీ _____ లో మరియు 536 కి.మీ ఆంధ్ర ప్రదేశ్ లో ప్రవహిస్తుంది.

Options :

Karnataka

4390153361. ✔ కర్ణాటక

Odisha

4390153362. ✖ ఒడిశా

Chhattisgarh

4390153363. ✖ చత్తీస్ గఢ్

Tamil Nadu

4390153364. ✖ తమిళ నాడు

Question Number : 92 Question Id : 439015842 Question Type : MCQ Option Shuffling : Yes Is Question Mandatory : No Calculator : None Response Time : N.A Think Time : N.A Minimum Instruction Time : 0 Negative Marks Display Text : 1/3 Option Orientation : Vertical

Correct Marks : 1 Wrong Marks : 0.33

Which of the following rivers is NOT in Andhra Pradesh?

ఈ క్రింది వాటిలో ఆంధ్ర ప్రదేశ్ లో ప్రవహించని నది ఏది ?

Options :

Budameru

4390153365. ✖ బుడమేరు

Chitravati

4390153366. ✘ చిత్రావతి

Pranahita

4390153367. ✔ ప్రాణహిత

Papagni

4390153368. ✘ పాపగ్ని

Question Number : 93 Question Id : 439015843 Question Type : MCQ Option Shuffling : Yes Is Question Mandatory : No
Calculator : None Response Time : N.A Think Time : N.A Minimum Instruction Time : 0 Negative Marks Display Text : 1/3 Option
Orientation : Vertical

Correct Marks : 1 Wrong Marks : 0.33

Approximately how much forest cover is increased in Andhra Pradesh from 2019 to 2021?

2019 నుండి 2021 వరకు ఆంధ్రప్రదేశ్ లో ఎంత అడవి విస్తీర్ణం సుమారుగా పెరిగింది?

Options :

547 km²

4390153369. ✘ 547 km²

647 km²

4390153370. ✔ 647 km²

447 km²

4390153371. ✘ 447 km²

347 km²

4390153372. ✘ 347 km²

Question Number : 94 Question Id : 439015844 Question Type : MCQ Option Shuffling : Yes Is Question Mandatory : No
Calculator : None Response Time : N.A Think Time : N.A Minimum Instruction Time : 0 Negative Marks Display Text : 1/3 Option
Orientation : Vertical

Correct Marks : 1 Wrong Marks : 0.33

As of April 2022, what percentage (approximate) of the geographical area of Andhra Pradesh is covered by forests?

ఏప్రిల్ 2022 నాటికి, ఆంధ్రప్రదేశ్ భూగోళిక ప్రాంతంలో ఎంత శాతం (సుమారుగా) అడవులు వున్నాయి ?

Options :

18.28%

4390153373. ✔ 18.28%

12.28%

4390153374. ✘ 12.28%

28.28%

4390153375. ✘ 28.28%

22.28%

4390153376. ✖ 22.28%

Question Number : 95 Question Id : 439015845 Question Type : MCQ Option Shuffling : Yes Is Question Mandatory : No
Calculator : None Response Time : N.A Think Time : N.A Minimum Instruction Time : 0 Negative Marks Display Text : 1/3 Option
Orientation : Vertical

Correct Marks : 1 Wrong Marks : 0.33

The river Godavari after crossing Rajahmundry in Andhra Pradesh splits into two branches called Gautami Godavari and _____.

ఆంధ్రప్రదేశ్ లోని రాజమండ్రి దాటిన తర్వాత గోదావరి నది గౌతమి గోదావరి మరియు _____. అనే రెండు శాఖలుగా విడిపోతుంది.

Options :

Katyayan Godavari

4390153377. ✖ కాత్యాయని గోదావరి

Vashistha Godavari

4390153378. ✔ వశిష్ట గోదావరి

Panini Godavari

4390153379. ✖ పణిని గోదావరి

Vyasa Godavari

4390153380. ✖ వ్యాస గోదావరి

Question Number : 96 Question Id : 439015846 Question Type : MCQ Option Shuffling : Yes Is Question Mandatory : No
Calculator : None Response Time : N.A Think Time : N.A Minimum Instruction Time : 0 Negative Marks Display Text : 1/3 Option
Orientation : Vertical

Correct Marks : 1 Wrong Marks : 0.33

The part of which river flowing in Andhra Pradesh is called Hagari?

ఆంధ్ర ప్రదేశ్ లో ప్రవహించే ఏ నది భాగాన్ని హగరి అని పిలుస్తారు ?

Options :

Palar

4390153381. ✖ పలార్

Thugabadra

4390153382. ✖ తుంగభద్ర

Champavathi

4390153383. ✖ చంపావతి

Vedavathi

4390153384. ✔ వేదవతి

Question Number : 97 Question Id : 439015847 Question Type : MCQ Option Shuffling : Yes Is Question Mandatory : No
Calculator : None Response Time : N.A Think Time : N.A Minimum Instruction Time : 0 Negative Marks Display Text : 1/3 Option
Orientation : Vertical

Correct Marks : 1 Wrong Marks : 0.33

The per capita income in Telangana after bifurcation in 2015-16 was ₹15,454 while in Andhra Pradesh it was only at ₹_____.

2015-16 లో విభజన తర్వాత తెలంగాణ తలసరి ఆదాయం రూ, 15,454 కాగా ఆంధ్ర ప్రదేశ్ లో అది రూ , _____. మాత్రమే.

Options :

8,979

4390153385. ✓ 8,979

9,979

4390153386. ✗ 9,979

6,979

4390153387. ✗ 6,979

7,979

4390153388. ✗ 7,979

Question Number : 98 Question Id : 439015848 Question Type : MCQ Option Shuffling : Yes Is Question Mandatory : No
Calculator : None Response Time : N.A Think Time : N.A Minimum Instruction Time : 0 Negative Marks Display Text : 1/3 Option
Orientation : Vertical

Correct Marks : 1 Wrong Marks : 0.33

One of the major commitments which were part of the Andhra Pradesh Reorganisation Act 2014, was to provide full financial support to the steel plant at _____.

ఆంధ్ర ప్రదేశ్ పునర్వ్యవస్థీకరణ చట్టం 2014 లో భాగం అయిన ప్రధాన కట్టుబాట్లలో ఒకటి _____ వద్ద ఉక్కు కర్మాగారానికి పూర్తి ఆర్థిక సహకారం అందించడం.

Options :

Kurnool

4390153389. ✗ కర్నూల్

Kakinada

4390153390. ✗ కాకినాడ

Kadapa

4390153391. ✓ కడప

Guntur

4390153392. ✗ గుంటూరు

Question Number : 99 Question Id : 439015849 Question Type : MCQ Option Shuffling : Yes Is Question Mandatory : No
Calculator : None Response Time : N.A Think Time : N.A Minimum Instruction Time : 0 Negative Marks Display Text : 1/3 Option
Orientation : Vertical

Correct Marks : 1 Wrong Marks : 0.33

After the bifurcation of Telangana, the Andhra Pradesh government requested the Centre for settlement of _____ payable by Telangana State GENCO as a standalone settlement.

తెలంగాణ విభజన తర్వాత ఆంధ్ర ప్రదేశ్ ప్రభుత్వం ఒక ప్రత్యేక పరిష్కారంగా తెలంగాణ రాష్ట్ర జెన్ కో (GENCO) ద్వారా చెల్లించవలసిన _____ ని సెటిల్మెంట్ చేయాలని కేంద్రాన్ని అభ్యర్థించింది .

Options :

₹3,442 crores

4390153393. ✓ ₹3,442 కోట్లు

₹2,442 crores

4390153394. ✗ ₹2,442 కోట్లు

₹1,442 crores

4390153395. ✗ ₹1,442 కోట్లు

₹4,442 crores

4390153396. ✗ ₹4,442 కోట్లు

Question Number : 100 Question Id : 439015850 Question Type : MCQ Option Shuffling : Yes Is Question Mandatory : No Calculator : None Response Time : N.A Think Time : N.A Minimum Instruction Time : 0 Negative Marks Display Text : 1/3 Option Orientation : Vertical

Correct Marks : 1 Wrong Marks : 0.33

As per the Andhra Pradesh Reorganisation Act 2014, for how many years will Hyderabad be the common capital for Andhra Pradesh and Telangana?

ఆంధ్రప్రదేశ్ పునర్ వ్యవస్థీకరణ చట్టం 2014 ప్రకారం ఆంధ్రప్రదేశ్ మరియు తెలంగాణా కి హైదరాబాద్ ఎన్ని సంవత్సరాల పాటు ఉమ్మడి రాజధాని గా వుంటుంది ?

Options :

8 years

4390153397. ✗ 8 సంవత్సరాలు

10 years

4390153398. ✓ 10 సంవత్సరాలు

15 years

4390153399. ✗ 15 సంవత్సరాలు

12 years

4390153400. ✗ 12 సంవత్సరాలు

Question Number : 101 Question Id : 439015851 Question Type : MCQ Option Shuffling : Yes Is Question Mandatory : No Calculator : None Response Time : N.A Think Time : N.A Minimum Instruction Time : 0 Negative Marks Display Text : 1/3 Option Orientation : Vertical

Correct Marks : 1 Wrong Marks : 0.33

As per Andhra Pradesh Reorganisation Act 2014, after the bifurcation, Andhra Pradesh will have _____ seats in Rajya Sabha.

ఆంధ్రప్రదేశ్ పునర్ వ్యవస్థీకరణ చట్టం 2014 ప్రకారం విభజన తర్వాత ఆంధ్ర ప్రదేశ్ కు రాజ్యసభ లో _____ సీట్లు ఉంటాయి .

Options :

8

4390153401. ✘ 8

7

4390153402. ✘ 7

11

4390153403. ✔ 11

13

4390153404. ✘ 13

Question Number : 102 Question Id : 439015852 Question Type : MCQ Option Shuffling : Yes Is Question Mandatory : No
Calculator : None Response Time : N.A Think Time : N.A Minimum Instruction Time : 0 Negative Marks Display Text : 1/3 Option
Orientation : Vertical

Correct Marks : 1 Wrong Marks : 0.33

The resources allocated by the _____ Finance Commission to the existing state of Andhra Pradesh will be apportioned between the two successor states on the basis of population ratio and other parameters after bifurcation.

ప్రస్తుతం ఆంధ్ర ప్రదేశ్ రాష్ట్రానికి _____ ఫైనాన్స్ కమిషన్ ద్వారా కేటాయించబడిన వనరులు విభజన తర్వాత రెండు రాష్ట్రాల వనరులను జనాభా నిష్పత్తి మరియు ఇతర పారామితుల ఆధారంగా విభజించబడతాయి.

Options :

13th

4390153405. ✔ 13th

12th

4390153406. ✘ 12th

11th

4390153407. ✘ 11th

10th

4390153408. ✘ 10th

Question Number : 103 Question Id : 439015853 Question Type : MCQ Option Shuffling : Yes Is Question Mandatory : No
Calculator : None Response Time : N.A Think Time : N.A Minimum Instruction Time : 0 Negative Marks Display Text : 1/3 Option
Orientation : Vertical

Correct Marks : 1 Wrong Marks : 0.33

As per Andhra Pradesh Reorganization Act 2014, after the bifurcation of Andhra Pradesh, the Legislative Council (L.C.) of Andhra Pradesh will have a maximum of _____ members, and Telangana, 40 members.

ఆంధ్రప్రదేశ్ పునర్వ్యవస్థీకరణ చట్టం 2014 ప్రకారం, ఆంధ్రప్రదేశ్ విభజన తర్వాత, ఆంధ్రప్రదేశ్ లోని లెజిస్లేటివ్ కౌన్సిల్ (L.C.) గరిష్టంగా _____ సభ్యులను కలిగి ఉంటుంది మరియు తెలంగాణలో 40 మంది సభ్యులు ఉంటారు.

Options :

- 55
4390153409. ✘ 55
50
4390153410. ✔ 50
60
4390153411. ✘ 60
65
4390153412. ✘ 65

Question Number : 104 Question Id : 439015854 Question Type : MCQ Option Shuffling : Yes Is Question Mandatory : No Calculator : None Response Time : N.A Think Time : N.A Minimum Instruction Time : 0 Negative Marks Display Text : 1/3 Option Orientation : Vertical

Correct Marks : 1 Wrong Marks : 0.33

Which of the following irrigation projects is said to be executed by the central government in consultation with the governments of Andhra Pradesh and Telangana?

ఈ క్రింది వాటిలో ఏ నీటిపారుదల ప్రాజెక్టును కేంద్ర ప్రభుత్వం ఆంధ్రప్రదేశ్ మరియు తెలంగాణ ప్రభుత్వాలతో సంప్రదించి అమలు చేస్తుందని చెప్పబడింది ?

Options :

- Polavaram project
4390153413. ✔ పోలవరం ప్రాజెక్టు
Annamayya project
4390153414. ✘ అన్నమయ్య ప్రాజెక్టు
Buggavanka project
4390153415. ✘ బుగ్గవంక ప్రాజెక్టు
Bhupathipalem project
4390153416. ✘ భూపతిపాలెం ప్రాజెక్టు

Question Number : 105 Question Id : 439015855 Question Type : MCQ Option Shuffling : Yes Is Question Mandatory : No Calculator : None Response Time : N.A Think Time : N.A Minimum Instruction Time : 0 Negative Marks Display Text : 1/3 Option Orientation : Vertical

Correct Marks : 1 Wrong Marks : 0.33

How many districts were carved out from Andhra Pradesh to create the Telangana state?

తెలంగాణ రాష్ట్రం ఏర్పాటు చేయడానికి ఆంధ్రప్రదేశ్ లోని ఎన్ని జిల్లాలని తొలగించటం జరిగింది ?

Options :

7

4390153417. ✘ 7

8

4390153418. ✘ 8

10

4390153419. ✔ 10

9

4390153420. ✘ 9

Question Number : 106 Question Id : 439015856 Question Type : MCQ Option Shuffling : Yes Is Question Mandatory : No
Calculator : None Response Time : N.A Think Time : N.A Minimum Instruction Time : 0 Negative Marks Display Text : 1/3 Option
Orientation : Vertical

Correct Marks : 1 Wrong Marks : 0.33

The government of Andhra Pradesh had agreed and given an undertaking for the payment of the monies spent on common institutions such as the High Court and Raj Bhavan to the tune of _____.

హై కోర్ట్ మరియు రాజ్ భవన్ వంటి ఉమ్మడి సంస్థల పై ఖర్చు చేసిన డబ్బులను _____ దాకా చెల్లించడానికి ఆంధ్ర ప్రదేశ్ ప్రభుత్వం అంగీకరించింది మరియు హామీ ఇచ్చింది .

Options :

₹615.76 crores

4390153421. ✘ ₹615.76 కోట్లు

₹515.76 crores

4390153422. ✘ ₹515.76 కోట్లు

₹415.76 crores

4390153423. ✘ ₹415.76 కోట్లు

₹315.76 crores

4390153424. ✔ ₹315.76 కోట్లు

Question Number : 107 Question Id : 439015857 Question Type : MCQ Option Shuffling : Yes Is Question Mandatory : No
Calculator : None Response Time : N.A Think Time : N.A Minimum Instruction Time : 0 Negative Marks Display Text : 1/3 Option
Orientation : Vertical

Correct Marks : 1 Wrong Marks : 0.33

After the bifurcation of Andhra Pradesh, Badrachalam Sri Rama temple has become part of Telangana which is the official temple for the celebration of 'Sri Ramanavami' for Andhra Pradesh. Where is this temple located?

ఆంధ్ర ప్రదేశ్ విభజన తర్వాత బద్రాచలం శ్రీ రాములవారి దేవాలయం తెలంగాణ లో కలసిన తరువాత _____ ఆంధ్ర ప్రదేశ్ కి 'శ్రీ రామనవమి' వేడుకలకు అధికారిక ఆలయం. ఈ ఆలయం ఎక్కడ వుంది ? ?

Options :

Rajahmundry

4390153425. ✘ రాజమండ్రి

Ontimetta

4390153426. ✔ ఒంటిమిట్ట

Tenali

4390153427. ✘ తెనాలి

Chittoor

4390153428. ✘ చిత్తూర్

Question Number : 108 Question Id : 439015858 Question Type : MCQ Option Shuffling : Yes Is Question Mandatory : No Calculator : None Response Time : N.A Think Time : N.A Minimum Instruction Time : 0 Negative Marks Display Text : 1/3 Option Orientation : Vertical

Correct Marks : 1 Wrong Marks : 0.33

Which of the following projects are under the control of Telangana state after the bifurcation of Andhra Pradesh?

ఈ క్రింది వాటిల్లో ఆంధ్రప్రదేశ్ విభజన తర్వాత తెలంగాణ రాష్ట్ర అధీనం లో వున్న ప్రాజెక్టు ఏది ?

Options :

Jurala project

4390153429. ✔ జూరాల ప్రాజెక్టు

Srisailam project

4390153430. ✘ శ్రీశైలం ప్రాజెక్టు

Pulichintala project

4390153431. ✘ పులిచింతల ప్రాజెక్టు

Prakasam barrage

4390153432. ✘ ప్రకాశం ప్రాజెక్టు

Question Number : 109 Question Id : 439015859 Question Type : MCQ Option Shuffling : Yes Is Question Mandatory : No Calculator : None Response Time : N.A Think Time : N.A Minimum Instruction Time : 0 Negative Marks Display Text : 1/3 Option Orientation : Vertical

Correct Marks : 1 Wrong Marks : 0.33

Which of the following diseases is caused due to deficiency of both proteins and calories in the human diet?

మానవ ఆహారం లో ప్రోటీన్లు మరియు క్యాలరీల లోపం వల్ల ఈ క్రింది వాటిలో ఏ వ్యాధి వస్తుంది ?

Options :

Goitre

4390153433. ✘ గాయిటర్ (Goitre)

Achondroplasia

4390153434. ✘ ఆకొండ్రోప్లాసియా (Achondroplasia)

Marasmic Kwashiorkor

4390153435. ✔ మరోస్మిక్వాషియోర్కర్ (Marasmic Kwashiorkor)

Rickets

4390153436. ✘ రికెట్స్ (Rickets)

Question Number : 110 Question Id : 439015860 Question Type : MCQ Option Shuffling : Yes Is Question Mandatory : No
Calculator : None Response Time : N.A Think Time : N.A Minimum Instruction Time : 0 Negative Marks Display Text : 1/3 Option
Orientation : Vertical

Correct Marks : 1 Wrong Marks : 0.33

According to Oxfam's 'An economy for the 99%' report, 2017, the top 10% of the Indian population holds _____ of the total national wealth.

ఆక్స్ ఫామ్ యొక్క '99 % కోసం ఆర్థిక వ్యవస్థ' నివేదిక, 2017 ప్రకారం, భారతీయ జనాభా లో అగ్ర భాగం లోని 10 % మొత్తం జాతీయ సంపదలో _____ ని కలిగి వున్నారు.

Options :

57%

4390153437. ✘ 57%

67%

4390153438. ✘ 67%

77%

4390153439. ✔ 77%

87%

4390153440. ✘ 87%

Question Number : 111 Question Id : 439015861 Question Type : MCQ Option Shuffling : Yes Is Question Mandatory : No
Calculator : None Response Time : N.A Think Time : N.A Minimum Instruction Time : 0 Negative Marks Display Text : 1/3 Option
Orientation : Vertical

Correct Marks : 1 Wrong Marks : 0.33

The Aadhar-enabled webland-based biometric system was introduced for the first time in Andhra Pradesh for the distribution of groundnut seeds during the Kharif season of _____.

ఆంధ్ర ప్రదేశ్ లో ఆధార్ ఎనేబుల్డ్ వెబ్ లాండ్ ఆధారిత బయోమెట్రిక్ సిస్టమ్ మొదటిసారిగా _____ ఖరీఫ్ సీజన్ లో వేరుశనగ విత్తనాల పంపిణీ కోసం ప్రవేశపెట్టబడింది.

Options :

- 2010
4390153441. ✘ 2010
2012
4390153442. ✘ 2012
2014
4390153443. ✘ 2014
2016
4390153444. ✔ 2016

Question Number : 112 Question Id : 439015862 Question Type : MCQ Option Shuffling : Yes Is Question Mandatory : No Calculator : None Response Time : N.A Think Time : N.A Minimum Instruction Time : 0 Negative Marks Display Text : 1/3 Option Orientation : Vertical

Correct Marks : 1 Wrong Marks : 0.33

Which of the following river systems in India originates in the northern slopes of the Kailash range in Tibet near Lake Manasarovar?

భారత దేశంలోని ఈ క్రింది వాటిలో ఏ నదీ వ్యవస్థ టిబెట్ లోని కైలాస్ శ్రేణి యొక్క ఉత్తర వాలులలో ఉన్న మానస సరోవర సరస్సు నుండి జన్మించింది ?

Options :

- Ganga river system
4390153445. ✘ గంగా నదీ వ్యవస్థ
Brahmaputra river system
4390153446. ✘ బ్రహ్మ పుత్ర నదీ వ్యవస్థ
Indus river system
4390153447. ✔ ఇండస్ నదీ వ్యవస్థ
Yamuna river system
4390153448. ✘ యమునా నదీ వ్యవస్థ

Question Number : 113 Question Id : 439015863 Question Type : MCQ Option Shuffling : Yes Is Question Mandatory : No Calculator : None Response Time : N.A Think Time : N.A Minimum Instruction Time : 0 Negative Marks Display Text : 1/3 Option Orientation : Vertical

Correct Marks : 1 Wrong Marks : 0.33

In terms of FDI (Foreign Direct Investment) inflows, what was the rank of Andhra Pradesh during 2019-20 ?

FDI విదేశీ ప్రత్యక్ష పెట్టుబడులు) రాక పరంగా 2019-20 లో ఆంధ్ర ప్రదేశ్ ర్యాంక్ ఎంత ?

Options :

15th

4390153449. ✘ 15th

18th

4390153450. ✘ 18th

12th

4390153451. ✔ 12th

20th

4390153452. ✘ 20th

Question Number : 114 Question Id : 439015864 Question Type : MCQ Option Shuffling : Yes Is Question Mandatory : No
Calculator : None Response Time : N.A Think Time : N.A Minimum Instruction Time : 0 Negative Marks Display Text : 1/3 Option
Orientation : Vertical

Correct Marks : 1 Wrong Marks : 0.33

As of March 2022, Andhra Pradesh has a total installed power generation capacity of _____ MW.

మార్చి 2022 నాటికి ఆంధ్ర ప్రదేశ్ మొత్తం వ్యవస్థాపించినవిద్యుత్ ఉత్పత్తి సామర్థ్యం _____ MW. గా కలిగి వుంది.

Options :

24,726.89

4390153453. ✘ 24,726.89

25,726.89

4390153454. ✔ 25,726.89

26,726.89

4390153455. ✘ 26,726.89

27,726.89

4390153456. ✘ 27,726.89

Question Number : 115 Question Id : 439015865 Question Type : MCQ Option Shuffling : Yes Is Question Mandatory : No
Calculator : None Response Time : N.A Think Time : N.A Minimum Instruction Time : 0 Negative Marks Display Text : 1/3 Option
Orientation : Vertical

Correct Marks : 1 Wrong Marks : 0.33

What is the rank of Andhra Pradesh in milk production during 2018-19 as per reports of ministry of agriculture and farmers welfare, government of India?

భారత ప్రభుత్వం వ్యవసాయం మరియు, రైతుల సంక్షేమం మంత్రిత్వ శాఖా నివేదిక ప్రకారం 2018-19 పాల ఉత్పత్తి లో ఆంధ్ర ప్రదేశ్ ర్యాంక్ ఎంత ?

Options :

2nd

4390153457. ✘ 2nd

3rd

4390153458. ✘ 3rd

4th

4390153459. ✔ 4th

5th

4390153460. ✘ 5th

Question Number : 116 Question Id : 439015866 Question Type : MCQ Option Shuffling : Yes Is Question Mandatory : No Calculator : None Response Time : N.A Think Time : N.A Minimum Instruction Time : 0 Negative Marks Display Text : 1/3 Option Orientation : Vertical

Correct Marks : 1 Wrong Marks : 0.33

On September 7, 2020, the Andhra Pradesh State government signed MoUs with which country in food processing, marketing and technologies, to benefit the horticulture and aquaculture farmers across the State?

7 సెప్టెంబర్ 2020 న రాష్ట్రవ్యాప్తంగా ఉన్న హార్టికల్చర్ మరియు ఆక్వాకల్చర్ రైతులకు లాభం చేకూర్చేందుకు ఆంధ్ర ప్రదేశ్ రాష్ట్ర ప్రభుత్వం పుడ్ ప్రొసెసింగ్ మార్కెటింగ్ మరియు టెక్నాలజీలలో ఏ దేశంతో MoUs కుదుర్చుకుంది ?

Options :

Japan

4390153461. ✘ జపాన్

Sri Lanka

4390153462. ✘ శ్రీలంక

Netherlands

4390153463. ✔ నెదర్లాండ్

Australia

4390153464. ✘ ఆస్ట్రేలియా

Question Number : 117 Question Id : 439015867 Question Type : MCQ Option Shuffling : Yes Is Question Mandatory : No Calculator : None Response Time : N.A Think Time : N.A Minimum Instruction Time : 0 Negative Marks Display Text : 1/3 Option Orientation : Vertical

Correct Marks : 1 Wrong Marks : 0.33

The Andhra Pradesh government allocated _____ for various agriculture related schemes for the year 2021-22.

ఆంధ్ర ప్రదేశ్ ప్రభుత్వం 2021-22 సంవత్సరానికి గాను వివిధ వ్యవసాయ సంక్షేమ పథకాల కోసం _____ కేటాయించింది.

Options :

₹18,256.36 crores

4390153465. ✘ ₹18,256.36 కోట్లు

₹25,256.36 crores

4390153466. ✘ ₹25,256.36 కోట్లు

₹21,256.36 crores

4390153467. ✘ ₹21,256.36 కోట్లు

₹31,256.36 crores

4390153468. ✔ ₹31,256.36 కోట్లు

Question Number : 118 Question Id : 439015868 Question Type : MCQ Option Shuffling : Yes Is Question Mandatory : No Calculator : None Response Time : N.A Think Time : N.A Minimum Instruction Time : 0 Negative Marks Display Text : 1/3 Option Orientation : Vertical

Correct Marks : 1 Wrong Marks : 0.33

What is the rank of Andhra Pradesh in India in terms of egg production during 2018-19 as per reports of ministry of agriculture and farmers welfare, government of India?

భారత ప్రభుత్వం వ్యవసాయ మరియు రైతుల సంక్షేమ మంత్రిత్వ శాఖ నివేదికల ప్రకారం 2018-19లో గుడ్ల ఉత్పత్తి లో భారత దేశం లో ఆంధ్ర ప్రదేశ్ ర్యాంక్ ఎంత ?

Options :

1st

4390153469. ✔ 1st

3rd

4390153470. ✘ 3rd

5th

4390153471. ✘ 5th

7th

4390153472. ✘ 7th

Question Number : 119 Question Id : 439015869 Question Type : MCQ Option Shuffling : Yes Is Question Mandatory : No Calculator : None Response Time : N.A Think Time : N.A Minimum Instruction Time : 0 Negative Marks Display Text : 1/3 Option Orientation : Vertical

Correct Marks : 1 Wrong Marks : 0.33

According to the Director General of Hydrocarbons (DGH), the state's Krishna-Godavari basin, spread over an area of nearly 52,000 km², has a total hydrocarbon resource base of _____ million metric tonnes.

డైరెక్టర్ జనరల్ ఆఫ్ హైడ్రో కార్బన్ (DGH) ప్రకారం, రాష్ట్రంలోని కృష్ణ - గోదావరి బేసిన్ దాదాపు 52,000 km² విస్తీర్ణంలో విస్తరించి ఉంది. ఇక్కడి మొత్తం హైడ్రో కార్బన్ వనరుల _____ మిలియన్ మెట్రిక్ టన్నులు ?

Options :

2,130

4390153473. ✘ 2,130

1,130

4390153474. ✔ 1,130

3,130

4390153475. ✘ 3,130

4,130

4390153476. ✘ 4,130

Question Number : 120 Question Id : 439015870 Question Type : MCQ Option Shuffling : Yes Is Question Mandatory : No Calculator : None Response Time : N.A Think Time : N.A Minimum Instruction Time : 0 Negative Marks Display Text : 1/3 Option Orientation : Vertical

Correct Marks : 1 Wrong Marks : 0.33

India's first National Air Sports Policy (NASP 2022) was released by the Ministry of Civil Aviation. It has a vision of making the country a hub for air sports nation by _____.

భారత దేశం లో మొట్ట మొదటి జాతీయ ఎయిర్ స్పోర్ట్స్ పాలసీ (NASP 2022) పౌర విమానయాన శాఖ విడుదల చేసింది. ఇది _____ నాటికి దేశాన్ని ఎయిర్ స్పోర్ట్స్ నేషన్ కు హబ్ గా మార్చే దృష్టిని కలిగి ఉంది.

Options :

2030

4390153477. ✔ 2030

2025

4390153478. ✘ 2025

2032

4390153479. ✘ 2032

2035

4390153480. ✘ 2035

Question Number : 121 Question Id : 439015871 Question Type : MCQ Option Shuffling : Yes Is Question Mandatory : No Calculator : None Response Time : N.A Think Time : N.A Minimum Instruction Time : 0 Negative Marks Display Text : 1/3 Option Orientation : Vertical

Correct Marks : 1 Wrong Marks : 0.33

Six friends Abhay, Ashish, Amish, Ankush, Ajeet and Aamir are sitting in a circular position. They all are sitting at equal distance from each other and are facing the centre of the table. Ashish is the immediate neighbour of Abhay but not of Ajeet. Ankush is at the immediate right side of Aamir and third to the left of Abhay. Amish is sitting between Ajeet and Abhay. Who is sitting between Amish and Ankush (in a clockwise direction from Amish towards Ankush)?

ఆరుగురు స్నేహితులు అభయ్, ఆశిష్, అమిష్, అంకుష్, అజీత్ మరియు అమీర్ వృత్తాకార స్థితిలో కూర్చున్నారు. వారందరూ ఒకరికోకరు సమాన దూరంలో కూర్చున్నారు మరియు మధ్యలో టేబుల్ వైపు చూస్తూ కూర్చున్నారు. ఆశిష్ అభయ్ యొక్క పొరుగువాడు కానీ అజీత్ కు కాదు. అంకుష్ అమీర్ కు కుడి వైపున మరియు అభయ్ కు ఎడమ వైపున మూడవ స్థానంలో ఉన్నాడు. అజీత్ మరియు అభయ్ మధ్య అమిష్ కూర్చున్నాడు. అమిష్ మరియు అంకుష్ మధ్య (అమిష్ నుండి అంకుష్ వైపు సవ్య దిశలో) ఎవరు కూర్చున్నారు?

Options :

Abhay

4390153481. ✘ అభయ్

Amish

4390153482. ✘ అమిష్

Ajeet

4390153483. ✔ అజీత్

Aamir

4390153484. ✘ అమీర్

Question Number : 122 Question Id : 439015872 Question Type : MCQ Option Shuffling : Yes Is Question Mandatory : No
Calculator : None Response Time : N.A Think Time : N.A Minimum Instruction Time : 0 Negative Marks Display Text : 1/3 Option
Orientation : Vertical

Correct Marks : 1 Wrong Marks : 0.33

If 1st March 2015 was a Sunday, then which day of the week would be on 1st March 2025?

1 మార్చి 2015 ఆదివారం అయితే, 1 మార్చి 2025న వారంలో ఏ రోజు అవుతుంది?

Options :

Sunday

4390153485. ✘ ఆదివారం

Saturday

4390153486. ✔ శనివారం

Monday

4390153487. ✘ సోమవారం

Wednesday

4390153488. ✘ బుధవారం

Question Number : 123 Question Id : 439015873 Question Type : MCQ Option Shuffling : Yes Is Question Mandatory : No

Calculator : None Response Time : N.A Think Time : N.A Minimum Instruction Time : 0 Negative Marks Display Text : 1/3 Option Orientation : Vertical

Correct Marks : 1 Wrong Marks : 0.33

Eight boxes are kept one above the other. The Red box is kept between the White and Pink boxes. The Indigo box is kept between Black and Green boxes. The Green box is kept immediately above the White box which is box number four from below. Seven boxes are kept above the Yellow box. Where is the Blue box kept?

ఎనిమిది పెట్టెలు ఒకదానిపై ఒకటి ఉంచబడ్డాయి. ఎరుపు పెట్టె తెలుపు మరియు గులాబీ రంగు పెట్టెల మధ్య ఉంచబడింది. ఇండిగో రంగు పెట్టె నలుపు మరియు ఆకుపచ్చ పెట్టెల మధ్య ఉంచబడింది. ఆకుపచ్చ పెట్టె తర్వాత ఉన్న తెలుపు రంగు పెట్టె పైన ఉంచబడింది, ఇది దిగువ నుండి బాక్స్ నంబర్ 4గా ఉంటుంది. పసుపు పెట్టె పైన ఏడు పెట్టెలు ఉంచబడ్డాయి. నీలిరంగు బాక్స్ ఎక్కడ ఉంచబడింది?

Options :

Below the Indigo box

4390153489. ✘ ఇండిగో బాక్స్ కింద

Between the Black and Yellow boxes

4390153490. ✘ నలుపు మరియు పసుపు పెట్టెల మధ్య

Below the Black box

4390153491. ✘ నలుపు రంగు పెట్టె కింద

Above the Black box

4390153492. ✔ నలుపు రంగు పెట్టె పైన

Question Number : 124 Question Id : 439015874 Question Type : MCQ Option Shuffling : Yes Is Question Mandatory : No Calculator : None Response Time : N.A Think Time : N.A Minimum Instruction Time : 0 Negative Marks Display Text : 1/3 Option Orientation : Vertical

Correct Marks : 1 Wrong Marks : 0.33

Read the given statements and conclusions carefully. Assuming that the information given in the statements is true, even if it appears to be at variance with commonly known facts, decide which of the given conclusions logically follow(s) from the statements.

Statements:

- I. Some rods are flowers.
- II. No flower is a fruit.
- III. No colour is a rod.

Conclusions:

- I. Some flowers are not colours.
- II. No fruit is a rod.

ఇచ్చిన స్టేట్‌మెంట్‌లు మరియు తీర్మానాలను జాగ్రత్తగా చదవండి. స్టేట్‌మెంట్‌లలో ఇవ్వబడిన సమాచారం నిజమని ఊహిస్తూ, సాధారణంగా తెలిసిన వాస్తవాలతో విభేదిస్తున్నట్లు కనిపించినప్పటికీ, ఇచ్చిన తీర్మానాలలో ఏది తార్కికంగా స్టేట్‌మెంట్‌లను అనుసరిస్తుందో నిర్ణయించండి.

స్టేట్‌మెంట్‌లు:

- I. కొన్ని రాడ్లు పూలు.
- II. ఏ పువ్వు ఫలం కాదు.
- III. ఏ రంగు రాడ్ కాదు.

తీర్మానాలు ;

- I. కొన్ని పువ్వులు రంగులు కావు.
- II. ఏ పండు రాడ్ కాదు.

Options :

Only conclusion I follows.

4390153493. ✓ I తీర్మానం మాత్రమే అనుసరిస్తుంది

Only conclusion II follows.

4390153494. ✗ II తీర్మానం మాత్రమే అనుసరిస్తుంది

Neither conclusion I nor conclusion II follows.

4390153495. ✗ తీర్మానం I గాని లేదా తీర్మానం II గానీ అనుసరించవు

Both conclusions I and II follow.

4390153496. ✗ I మరియు II తీర్మానాలు అనుసరిస్తాయి

Question Number : 125 Question Id : 439015875 Question Type : MCQ Option Shuffling : Yes Is Question Mandatory : No
Calculator : None Response Time : N.A Think Time : N.A Minimum Instruction Time : 0 Negative Marks Display Text : 1/3 Option
Orientation : Vertical
Correct Marks : 1 Wrong Marks : 0.33

Read the given statements and conclusions carefully. Assuming that the information given in the statements is true, even if it appears to be at variance with commonly known facts, decide which of the given conclusions logically follow(s) from the statements.

Statements:

- I. Some words are sentences.
- II. No letter is a sentence.
- III. Some letters are paragraphs.

Conclusions:

- I. All paragraphs being word is a possibility.
- II. No sentence is a letter.
- III. All paragraphs are letters.

ఇచ్చిన స్టేట్‌మెంట్‌లు మరియు తీర్మానాలను జాగ్రత్తగా చదవండి. స్టేట్‌మెంట్‌లలో ఇవ్వబడిన సమాచారం నిజమని ఊహిస్తూ, సాధారణంగా తెలిసిన వాస్తవాలతో విభేదిస్తున్నట్లు కనిపించినప్పటికీ, ఇచ్చిన తీర్మానాలలో ఏది తార్కికంగా స్టేట్‌మెంట్‌లను అనుసరిస్తుందో నిర్ణయించండి.

స్టేట్‌మెంట్‌లు:

- I. కొన్ని పదాలు వాక్యాలు
- II. ఏ అక్షరం వాక్యం కాదు
- III. కొన్ని అక్షరాలు పేరాగ్రాఫ్లు

తీర్మానాలు :

- I. అన్ని పేరాలు పదంగా ఉండే అవకాశం ఉంది.
- II. ఏ వాక్యం అక్షరం కాదు.
- III. పేరాలన్నీ అక్షరాలు.

Options :

Both conclusions I and II follow.

4390153497. ✓ I మరియు II రెండు తీర్మానాలు అనుసరిస్తాయి

Both conclusions I and III follow.

4390153498. ✗ I మరియు III రెండు తీర్మానాలు అనుసరిస్తాయి

Both conclusions II and III follow.

4390153499. ✗ II మరియు III రెండు తీర్మానాలు అనుసరిస్తాయి

None of the conclusions I, II and III follow.

4390153500. ✗ I, II మరియు III ఈ తీర్మానాలు ఏవీ అనుసరించవు

Question Number : 126 Question Id : 439015876 Question Type : MCQ Option Shuffling : Yes Is Question Mandatory : No
Calculator : None Response Time : N.A Think Time : N.A Minimum Instruction Time : 0 Negative Marks Display Text : 1/3 Option
Orientation : Vertical
Correct Marks : 1 Wrong Marks : 0.33

In the given question, assuming the given statements to be true, find which of the following among the given conclusions is/are definitely True?

Statements:

- i. $A < S = T$
- ii. $U < T$, and
- iii. $K = U < P$

Conclusions :

- I. $T > S$
- II. $T > A$
- III. $P > S$
- IV. $P > U$

ఇచ్చిన ప్రశ్నలో, ఇచ్చిన స్టేట్‌మెంట్‌లు నిజమని భావించి, ఇచ్చిన తీర్మానాలలో కింది వాటిలో ఏది ఖచ్చితంగా నిజమో/వాటిని కనుగొనండి?

స్టేట్‌మెంట్‌లు:

- i. $A < S = T$
- ii. $U < T$, and
- iii. $K = U < P$

తీర్మానాలు:

- I. $T > S$
- II. $T > A$
- III. $P > S$
- IV. $P > U$

Options :

Both conclusions I and II are true.

4390153501. ✖ I మరియు II రెండు తీర్మానాలు నిజమైనవి

Both conclusions I and III are true.

4390153502. ✖ I మరియు III రెండు తీర్మానాలు నిజమైనవి

Both conclusions II and IV are true.

4390153503. ✔ II మరియు IV రెండు తీర్మానాలు నిజమైనవి

Both conclusions II and III are true.

4390153504. ✖ II మరియు III రెండు తీర్మానాలు నిజమైనవి

Question Number : 127 Question Id : 439015877 Question Type : MCQ Option Shuffling : Yes Is Question Mandatory : No Calculator : None Response Time : N.A Think Time : N.A Minimum Instruction Time : 0 Negative Marks Display Text : 1/3 Option Orientation : Vertical

Correct Marks : 1 Wrong Marks : 0.33

Select the combination of letters that when sequentially placed in the blanks of the given series will complete the series.

AK__KA__PPKA__PKAAK__AAKP_KA

ఇచ్చిన శ్రేణిలో ఖాళీలను వరసలుగా ఉంచినప్పుడు శ్రేణి పూర్తి చేసే అక్షరాల కలయికను ఎంచుకోండి.

AK__KA__PPKA__PKAAK__AAKP_KA

Options :

PPAKAPPKPKP

4390153505. ✘ PPAKAPPKPKP

PPAKAKPPPKP

4390153506. ✔ PPAKAKPPPKP

PPAKKPAKPPP

4390153507. ✘ PPAKKPAKPPP

PPAKPPKPAKP

4390153508. ✘ PPAKPPKPAKP

Question Number : 128 Question Id : 439015878 Question Type : MCQ Option Shuffling : Yes Is Question Mandatory : No Calculator : None Response Time : N.A Think Time : N.A Minimum Instruction Time : 0 Negative Marks Display Text : 1/3 Option Orientation : Vertical

Correct Marks : 1 Wrong Marks : 0.33

Which two signs should be interchanged to make the following equation correct?

$$17 \times 15 + 22 \div 2 - 34 = 278$$

ఈ క్రింది సమీకరణాన్ని సరి చేయడానికి ఏ రెండు గుర్తులను(సంకేతాలను) పరస్పరం బదిలీ చేయాలి ?

$$17 \times 15 + 22 \div 2 - 34 = 278$$

Options :

× and +

4390153509. ✘ × మరియు +

– and ×

4390153510. ✘ – మరియు ×

– and ÷

4390153511. ✘ – మరియు ÷

– and +

4390153512. ✔ – మరియు +

Question Number : 129 Question Id : 439015879 Question Type : MCQ Option Shuffling : Yes Is Question Mandatory : No Calculator : None Response Time : N.A Think Time : N.A Minimum Instruction Time : 0 Negative Marks Display Text : 1/3 Option Orientation : Vertical

Correct Marks : 1 Wrong Marks : 0.33

Select the number from among the given options that can replace the question mark (?) in the following series.

0, 1, 2, 6, 14, 45, 138, ?, 2228

ఈ క్రింది శ్రేణిలో ప్రశ్న గుర్తును (?) భర్తీ చేయగలిగే ,ఇవ్వబడిన సంఖ్య లలో సరైన దానిని ఎంచుకోండి.

0, 1, 2, 6, 14, 45, 138, ?, 2228

Options :

347

4390153513. ✘ 347

556

4390153514. ✔ 556

423

4390153515. ✘ 423

876

4390153516. ✘ 876

Question Number : 130 Question Id : 439015880 Question Type : MCQ Option Shuffling : Yes Is Question Mandatory : No
Calculator : None Response Time : N.A Think Time : N.A Minimum Instruction Time : 0 Negative Marks Display Text : 1/3 Option
Orientation : Vertical

Correct Marks : 1 Wrong Marks : 0.33

In a certain code language, 'RAM' is coded as '35' and 'DADA' is coded as '14'. How will 'AMAR' be coded
in that language?

నిర్దిష్ట కోడ్ భాషలలో 'RAM' '35' గా మరియు 'DADA' '14' గా కోడ్ చేయబడింది ఆ భాషలలో 'AMAR' ఎలా కోడ్
చేయబడుతుంది?

Options :

16

4390153517. ✘ 16

18

4390153518. ✘ 18

37

4390153519. ✔ 37

39

4390153520. ✘ 39

Question Number : 131 Question Id : 439015881 Question Type : MCQ Option Shuffling : Yes Is Question Mandatory : No
Calculator : None Response Time : N.A Think Time : N.A Minimum Instruction Time : 0 Negative Marks Display Text : 1/3 Option
Orientation : Vertical

Correct Marks : 1 Wrong Marks : 0.33

Select the combination of letters that when sequentially placed in the blanks of the given series will complete
the series.

A, B, D, E, C, F, _, D, H, O, E, _, U, F, L, A, G, N, E

ఇచ్చిన శ్రేణి యొక్క ఖాళీల ప్రాంతంలో ఏ అక్షరాల కలయిక ఎంచుకోవడం వల్ల శ్రేణి పూర్తి అవుతుంది ?

A, B, D, E, C, F, _, D, H, O, E, _, U, F, L, A, G, N, E

Options :

H and J

4390153521. ✖ H మరియు J

H and K

4390153522. ✖ H మరియు K

I and J

4390153523. ✔ I మరియు J

I and K

4390153524. ✖ I మరియు K

Question Number : 132 Question Id : 439015882 Question Type : MCQ Option Shuffling : Yes Is Question Mandatory : No
Calculator : None Response Time : N.A Think Time : N.A Minimum Instruction Time : 0 Negative Marks Display Text : 1/3 Option
Orientation : Vertical

Correct Marks : 1 Wrong Marks : 0.33

Anamika started walking from her house and walked for 2 km towards the west. Then she turned to her right and walked further for 3 km. She then turned to her right and walked for 4 km to reach her friend's house. From there she walked north for 1 km and then turned to her left and walked for 1 km. Finally, she turned to her left and walked for 2 km to reach her school. In which direction is Anamika's home from school?

అనామిక ఆన ఇంటి నుండి పశ్చిమం వైపు 2 కి.మీ నడిచింది .ఆన కుడి వైపుకు తిరిగి ముందుకు 3 కి.మీ నడిచింది .అక్కడి నుండి ఆన కుడి వైపుకు తిరిగి 4 కి.మీ నడిచి ఆన ఫ్రెండ్ ఇంటికి చేరుకుంది .అక్కడి నుండి ఉత్తరం వైపుకు 1 కి.మీ నడిచి ఆన ఎడమ వైపుకు తిరిగి 1 కి.మీ నడిచింది చివరిగా ఆన ఎడమ వైపుకు తిరిగి 2 కి.మీ నడిచి ఆన స్కూల్ కి చేరుకుంది ,స్కూల్ నుండి అనామిక ఇల్లు ఏ దిక్కున వుంది?

Options :

East

4390153525. ✖ తూర్పు

South-west

4390153526. ✔ నైరుతి

North-west

4390153527. ✖ వాయువ్యం

North-east

4390153528. ✖ ఈశాన్యం

Question Number : 133 Question Id : 439015883 Question Type : MCQ Option Shuffling : Yes Is Question Mandatory : No
Calculator : None Response Time : N.A Think Time : N.A Minimum Instruction Time : 0 Negative Marks Display Text : 1/3 Option
Orientation : Vertical

Correct Marks : 1 Wrong Marks : 0.33

If

A@B means 'A is the father of B',

A & B means 'A is the wife of B',

A % B means 'A is the brother of B',

then how is O related to N in the following equation?

O % K & M @ P % L % N

ఒకవేళ

A@B అంటే 'A, Bకి తండ్రి అవుతారు'

A & B అంటే 'A, Bకి భార్య అవుతారు'

A % B అంటే 'A, Bకి సోదరుడు అవుతారు'

ఈ క్రింది సమీకరణలో O, N తో ఎలాంటి సంబంధం కలిగి ఉంటారు?

O % K & M @ P % L % N

Options :

Father

4390153529. ✘ తండ్రి

Maternal Uncle

4390153530. ✔ మేనమామ

Brother

4390153531. ✘ సోదరుడు

Paternal Grandfather

4390153532. ✘ తాతయ్య

Question Number : 134 Question Id : 439015884 Question Type : MCQ Option Shuffling : Yes Is Question Mandatory : No
Calculator : None Response Time : N.A Think Time : N.A Minimum Instruction Time : 0 Negative Marks Display Text : 1/3 Option
Orientation : Vertical

Correct Marks : 1 Wrong Marks : 0.33

If

@ stands for division,

& stands for multiplication,

stands for Addition and

% stands for subtraction,

then which of the given numbers will replace the question mark (?) in the following equation?

$$34@17\%13&2\#42=?$$

ఒకవేళ

@ అంటే విభజన

& అంటే గుణకారం,

అంటే కూడిక (+)

% అంటే తీసివేత అయితే

ఈ క్రింద ఇవ్వబడిన సమీకరణంలో ప్రశ్న గుర్తు (?)ను ఏ సంఖ్య భర్తీ చేస్తుంది

$$34@17\%13&2\#42=?$$

Options :

-14

4390153533. ✘ -14

18

4390153534. ✔ 18

14

4390153535. ✘ 14

55

4390153536. ✘ 55

Question Number : 135 Question Id : 439015885 Question Type : MCQ Option Shuffling : Yes Is Question Mandatory : No
Calculator : None Response Time : N.A Think Time : N.A Minimum Instruction Time : 0 Negative Marks Display Text : 1/3 Option
Orientation : Vertical

Correct Marks : 1 Wrong Marks : 0.33

Which two numbers should be interchanged to make the following equation correct?

$$44 \times 21 + (13 \times 3 - 12) + 17 - 42 \div 4 = 915$$

కింది సమీకరణాన్ని సరిచేయడానికి ఏ రెండు సంఖ్యలను పరస్పరం మార్చాలి?

$$44 \times 21 + (13 \times 3 - 12) + 17 - 42 \div 4 = 915$$

Options :

44 and 4

4390153537. ✘ 44 మరియు 4

44 and 42

4390153538. ✔ 44 మరియు 42

21 and 4

4390153539. ✖ 21 మరియు 4

13 and 4

4390153540. ✖ 13 మరియు 4

Question Number : 136 Question Id : 439015886 Question Type : MCQ Option Shuffling : Yes Is Question Mandatory : No Calculator : None Response Time : N.A Think Time : N.A Minimum Instruction Time : 0 Negative Marks Display Text : 1/3 Option Orientation : Vertical

Correct Marks : 1 Wrong Marks : 0.33

Raju has taken a test which consists of 'True' or 'False' questions. One mark is awarded for every correct answer, while $\frac{1}{3}$ mark is deducted for every wrong answer. Raju knew the answers to some of the questions. The rest of the questions he attempted by guessing. He answered 160 questions and got 96 marks. If the answers to all the questions that he attempted by guessing were wrong, then how many questions did he answer correctly?

రాజు 'సత్యం' (True) లేదా 'అసత్యం' (False) ప్రశ్నల తో కూడిన పరీక్షలో పాల్గొన్నాడు. ప్రతి సరైన సమాధానానికి 1 మార్కు పొందుతారు, అలాగే ప్రతి తప్పుడు సమాధానానికి $\frac{1}{3}$ మార్కుల కోత విధిస్తారు. రాజుకు కొన్ని ప్రశ్నలకు సమాధానాలు తెలుసు. మిగిలిన వాటికి ఊహించి సమాధానం ఇచ్చాడు. మొత్తం 160 ప్రశ్నలకు సమాధానాలు ఇచ్చాడు. అందులో 96 మార్కులు పొందాడు ఊహించి సమాధానం చేసినా అన్ని ప్రశ్నలు తప్పు అయితే అతడు ఎన్ని ప్రశ్నలకు సమాధానాలు ఇచ్చాడు ?

Options :

124

4390153541. ✖ 124

120

4390153542. ✖ 120

116

4390153543. ✖ 116

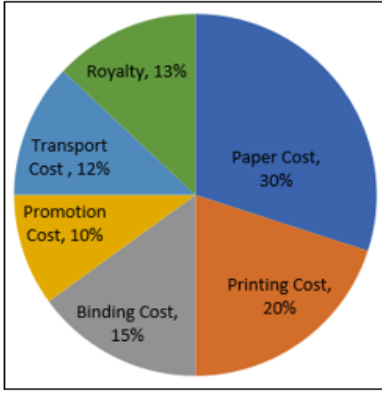
112

4390153544. ✔ 112

Question Number : 137 Question Id : 439015887 Question Type : MCQ Option Shuffling : Yes Is Question Mandatory : No Calculator : None Response Time : N.A Think Time : N.A Minimum Instruction Time : 0 Negative Marks Display Text : 1/3 Option Orientation : Vertical

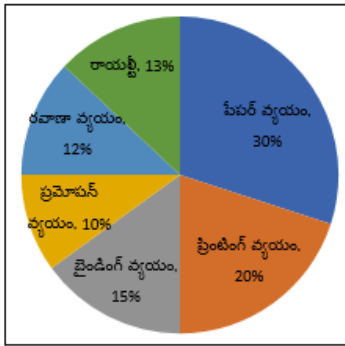
Correct Marks : 1 Wrong Marks : 0.33

The given pie-chart shows the percentage distribution of the expenditure incurred in publishing a book. Study the pie-chart and answer the question that follows.



The price of the book is marked at 24% above the CP. If the marked price of the book is ₹434, then what is the cost of paper used in three such books?

ఇవ్వబడిన పై-చార్ట్ ఒక పుస్తకాన్ని ప్రచురించడానికి అయ్యే ఖర్చు శాతం పంపిణీని చూపుతుంది. పై-చార్ట్ను అధ్యయనం చేసి, క్రింది ప్రశ్నకు సమాధానం ఇవ్వండి



పుస్తకం యొక్క ధర CP కంటే 24% పైన గుర్తించబడింది. పుస్తకం యొక్క గుర్తించబడిన ధర ₹434 అయితే, అటువంటి మూడు పుస్తకాలలో ఉపయోగించిన కాగితం ధర ఎంత?

Options :

₹350

4390153545. ✘ రూ .350

₹315

4390153546. ✔ రూ .315

₹225

4390153547. ✘ రూ .225

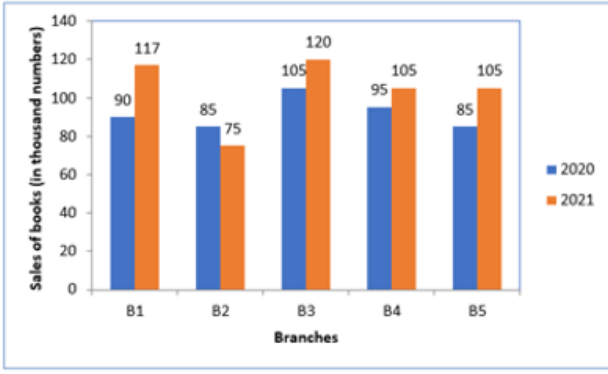
₹150

4390153548. ✘ రూ .150

Question Number : 138 Question Id : 439015888 Question Type : MCQ Option Shuffling : Yes Is Question Mandatory : No Calculator : None Response Time : N.A Think Time : N.A Minimum Instruction Time : 0 Negative Marks Display Text : 1/3 Option Orientation : Vertical

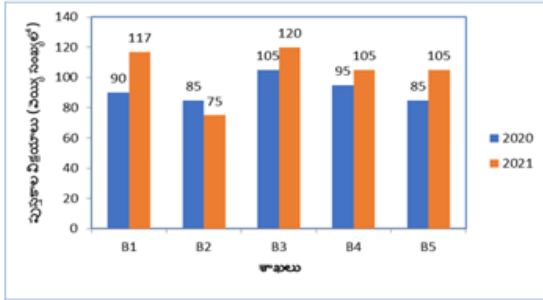
Correct Marks : 1 Wrong Marks : 0.33

The given bar graph shows the sales of books (in thousand numbers) from five branches of a publishing company during two consecutive years 2020 and 2021. Study the bar graph and answer the question that follows.



What percentage of the average sales of branches B1, B2 and B3 in 2021 is the average of sales of branches B3, B4 and B5 in 2020? (Correct to three decimal places)

ఇచ్చిన బార్ గ్రాఫ్ 2020 మరియు 2021 వరుసగా రెండు సంవత్సరాలలో ప్రచురణ సంస్థ యొక్క ఐదు శాఖల నుండి పుస్తకాల విక్రయాలను (వెయ్యి సంఖ్యలో) చూపుతుంది. బార్ గ్రాఫ్‌ను అధ్యయనం చేసి, క్రింది ప్రశ్నకు సమాధానం ఇవ్వండి.



2021లో B1, B2 మరియు B3 బ్రాంచ్ల సగటు అమ్మకాలలో 2020లో B3, B4 మరియు B5 బ్రాంచ్ల సగటు అమ్మకాల శాతం ఎంత? (మూడు దశాంశ స్థానాలకు సరిచేయండి)

Options :

91.346%

4390153549. ✓ 91.346%

92.124%

4390153550. ✗ 92.124%

93.207%

4390153551. ✗ 93.207%

94.012%

4390153552. ✗ 94.012%

Question Number : 139 Question Id : 439015889 Question Type : MCQ Option Shuffling : Yes Is Question Mandatory : No Calculator : None Response Time : N.A Think Time : N.A Minimum Instruction Time : 0 Negative Marks Display Text : 1/3 Option Orientation : Vertical

Correct Marks : 1 Wrong Marks : 0.33

The mean deviation about the mean of the following data is:

Size(x)	1	3	5	7	9	11	13	15
Frequency (f)	4	2	4	13	8	4	3	4

ఈ క్రింద ఇవ్వబడిన దత్తాంశానికి సగటు పై సగటు విచలనం ఎంత ?

పరిమాణం(x)	1	3	5	7	9	11	13	15
పౌనఃపున్యం (f)	4	2	4	13	8	4	3	4

Options :

3.00

4390153553. ✓ 3.00

2.95

4390153554. ✗ 2.95

2.90

4390153555. ✗ 2.90

2.85

4390153556. ✗ 2.85

Question Number : 140 Question Id : 439015890 Question Type : MCQ Option Shuffling : Yes Is Question Mandatory : No
Calculator : None Response Time : N.A Think Time : N.A Minimum Instruction Time : 0 Negative Marks Display Text : 1/3 Option
Orientation : Vertical

Correct Marks : 1 Wrong Marks : 0.33

The range of the data 13,5,9,10,3,20,17,18,25,16, 24, 36, 23 and 27 is:

13,5,9,10,3,20,17,18,25,16, 24, 36, 23 మరియు 27 యొక్క డేటా శ్రేణి ఎంత ?

Options :

35

4390153557. ✗ 35

34

4390153558. ✗ 34

33

4390153559. ✓ 33

32

4390153560. ✗ 32

Question Number : 141 Question Id : 439015891 Question Type : MCQ Option Shuffling : Yes Is Question Mandatory : No
Calculator : None Response Time : N.A Think Time : N.A Minimum Instruction Time : 0 Negative Marks Display Text : 1/3 Option

Orientation : Vertical

Correct Marks : 1 Wrong Marks : 0.33

The standard deviation of the following data is (correct to three decimal places):

Class Interval	Frequency
4-8	2
8-12	7
12-16	5
16-20	6

ఈ క్రింద డాటా యొక్క ప్రామాణిక విచలనం (మూడు దశాంశాల లుకు సమానం) ఏది?

తరగతి విరామం	ఫ్రీక్వెన్సీ
4-8	2
8-12	7
12-16	5
16-20	6

Options :

3.975

4390153561. ✓ 3.975

4.125

4390153562. ✗ 4.125

5.029

4390153563. ✗ 5.029

6.123

4390153564. ✗ 6.123

Question Number : 142 Question Id : 439015892 Question Type : MCQ Option Shuffling : Yes Is Question Mandatory : No
Calculator : None Response Time : N.A Think Time : N.A Minimum Instruction Time : 0 Negative Marks Display Text : 1/3 Option
Orientation : Vertical

Correct Marks : 1 Wrong Marks : 0.33

The mean of the following data is:

Class Interval	Frequency
0-5	3
5-10	5
10-15	10
15-20	12
20-25	10

కింది డేటా సగటు:

ఆరగతి విరామం	ఫ్రీక్వెన్సీ
0-5	3
5-10	5
10-15	10
15-20	12
20-25	10

Options :

17.375

4390153565. ✖ 17.375

16.315

4390153566. ✖ 16.315

15.125

4390153567. ✔ 15.125

14.725

4390153568. ✖ 14.725

Question Number : 143 Question Id : 439015893 Question Type : MCQ Option Shuffling : Yes Is Question Mandatory : No
Calculator : None Response Time : N.A Think Time : N.A Minimum Instruction Time : 0 Negative Marks Display Text : 1/3 Option
Orientation : Vertical

Correct Marks : 1 Wrong Marks : 0.33

The geometric mean of 18, 84, 28,63,42 and 49 is:

18, 84, 28,63,42 మరియు 49 యొక్క రేఖీయ సగటు:

Options :

42

4390153569. ✔ 42

84

4390153570. ✖ 84

56

4390153571. ✖ 56

4390153572. ✖ 72

Question Number : 144 Question Id : 439015894 Question Type : MCQ Option Shuffling : Yes Is Question Mandatory : No
 Calculator : None Response Time : N.A Think Time : N.A Minimum Instruction Time : 0 Negative Marks Display Text : 1/3 Option
 Orientation : Vertical

Correct Marks : 1 Wrong Marks : 0.33

For a certain data, the mean is 2.5 more than the median and the ratio between the median and the mode is 4:3. The mean of the data is:

నిర్దిష్ట డేటా కోసం, మధ్యమం కంటే సగటు 2.5 ఎక్కువ మరియు మధ్యమం మరియు బాహుళకము మధ్య నిష్పత్తి 4:3.
 డేటా యొక్క సగటు:

Options :

20.5

4390153573. ✖ 20.5

22.5

4390153574. ✔ 22.5

21.5

4390153575. ✖ 21.5

24.5

4390153576. ✖ 24.5

Question Number : 145 Question Id : 439015895 Question Type : MCQ Option Shuffling : Yes Is Question Mandatory : No
 Calculator : None Response Time : N.A Think Time : N.A Minimum Instruction Time : 0 Negative Marks Display Text : 1/3 Option
 Orientation : Vertical

Correct Marks : 1 Wrong Marks : 0.33

A survey conducted on 20 households in a locality by a group of students resulted in the following frequency table for the number of family members in a household.

Family size	Number of families
1-3	5
3-5	7
5-7	4
7-9	2
9-11	2

The mode of the data is:

విద్యార్థుల సమూహం ద్వారా ఒక ప్రాంతంలోని 20 కుటుంబాలపై నిర్వహించిన ఒక సర్వే ఫలితంగా ఒక కుటుంబంలోని కుటుంబ సభ్యుల సంఖ్య కోసం క్రింది ఫ్రీక్వెన్సీ టేబుల్ ని అందించారు.

కుటుంబ పరిమాణం	కుటుంబాల సంఖ్య
1-3	5
3-5	7
5-7	4
7-9	2
9-11	2

దత్తాంశం బహుళకం:

Options :

3.3

4390153577. ✘ 3.3

3.5

4390153578. ✘ 3.5

3.6

4390153579. ✘ 3.6

3.8

4390153580. ✔ 3.8

Question Number : 146 Question Id : 439015896 Question Type : MCQ Option Shuffling : Yes Is Question Mandatory : No Calculator : None Response Time : N.A Think Time : N.A Minimum Instruction Time : 0 Negative Marks Display Text : 1/3 Option Orientation : Vertical

Correct Marks : 1 Wrong Marks : 0.33

The number of students at a coaching centre in the morning batch, evening batch and weekend batch is 30, 40 and 50, respectively, and their respective ages (in years) are 21, x and 24. If the average age of all the students (combined) is $21\frac{11}{12}$, then the value of x is:

ఉదయం బ్యాచ్, సాయంత్రపు బ్యాచ్ మరియు వారాంతపు బ్యాచ్ లో కోచింగ్ సెంటర్ లో విద్యార్థుల సంఖ్య వరుసగా 30, 40 మరియు 50, మరియు వారి సంబంధిత వయస్సులు (సంవత్సరాలలో) 21, x మరియు 24. విద్యార్థులందరి సగటు వయస్సు (కలిపి) $21\frac{11}{12}$ అయితే, అప్పుడు x విలువ:

Options :

20

4390153581. ✓ 20

22

4390153582. ✘ 22

23

4390153583. ✘ 23

25

4390153584. ✘ 25

Question Number : 147 Question Id : 439015897 Question Type : MCQ Option Shuffling : Yes Is Question Mandatory : No Calculator : None Response Time : N.A Think Time : N.A Minimum Instruction Time : 0 Negative Marks Display Text : 1/3 Option Orientation : Vertical

Correct Marks : 1 Wrong Marks : 0.33

The variance of the data 14, 15, 16,20,25, 30, 35 and 45 is:

ಡೆಟಾ 14, 15, 16,20,25, 30, 35ಮರಿಯು 45 ಯುಕ್ತ ವಿಭೇದಂ

Options :

110.5

4390153585. ✘ 110.5

108.5

4390153586. ✘ 108.5

106.5

4390153587. ✓ 106.5

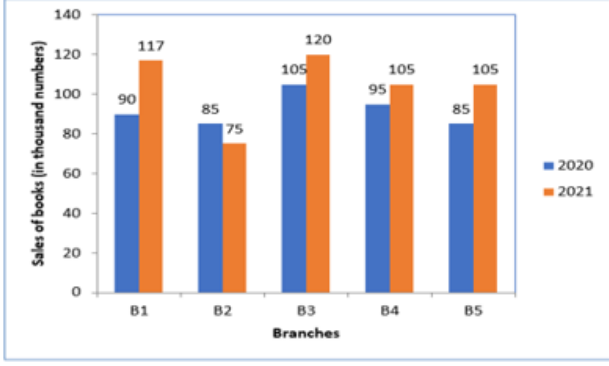
104.5

4390153588. ✘ 104.5

Question Number : 148 Question Id : 439015898 Question Type : MCQ Option Shuffling : Yes Is Question Mandatory : No Calculator : None Response Time : N.A Think Time : N.A Minimum Instruction Time : 0 Negative Marks Display Text : 1/3 Option Orientation : Vertical

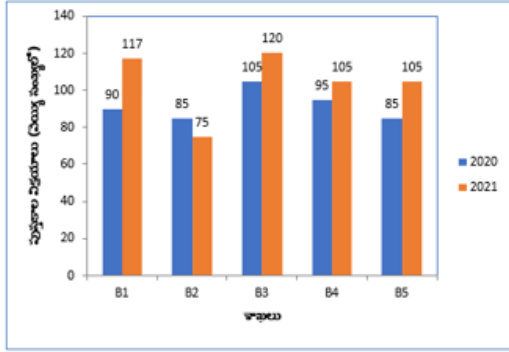
Correct Marks : 1 Wrong Marks : 0.33

The given bar graph shows the sales of books (in thousand numbers) from five branches of a publishing company during two consecutive years 2020 and 2021. Study the graph and answer the question that follows.



The total sale of branch B4 for both the years is what percentage of the total sale of branch B3 for both the years?
(Correct to three decimal places).

అందించిన బార్ గ్రాఫ్ 2020 మరియు 2021 వరుసగా రెండు సంవత్సరాలలో ప్రచురణ సంస్థ యొక్క ఐదు శాఖల నుండి పుస్తకాల విక్రయాలను (వెయ్యి సంఖ్యలలో) చూపుతుంది. గ్రాఫ్‌ను అధ్యయనం చేసి, క్రింది ప్రశ్నకు సమాధానం ఇవ్వండి.



రెండు సంవత్సరాలకు బ్రాంచ్ B4 యొక్క మొత్తం విక్రయం రెండు సంవత్సరాలకు B3 బ్రాంచ్ మొత్తం అమ్మకంలో ఎంత శాతం? (మూడు దశాంశ స్థానాలకు సరిదిద్దండి).

Options :

88.889%

4390153589. ✓ 88.889%

87.238%

4390153590. ✗ 87.238%

86.423%

4390153591. ✗ 86.423%

85.345%

4390153592. ✗ 85.345%

Orientation : Vertical

Correct Marks : 1 Wrong Marks : 0.33

The following data gives the information on the observed life times (in hours) of 200 electrical components.

Lifetimes (in hours)	Frequency
0-20	10
20-40	36
40-60	52
60-80	62
80-100	40

The median lifetime of the components (correct to three decimal places):

కింది డేటా 200 ఎలక్ట్రికల్ భాగాలను గమనించిన జీవిత కాలాల (గంటల్లో) సమాచారాన్ని అందిస్తుంది.

జీవిత కాలాలు (గంటలలో)	ఫ్రీక్వెన్సీ
0-20	10
20-40	36
40-60	52
60-80	62
80-100	40

భాగాల యొక్క మధ్యస్థ జీవిత కాలం (మూడు దశాంశ స్థానాలకు సర్దుబాటు చేయండి)

Options :

60.235

4390153593. ✖ 60.235

60.645

4390153594. ✔ 60.645

60.715

4390153595. ✖ 60.715

60.815

4390153596. ✖ 60.815

Question Number : 150 Question Id : 439015900 Question Type : MCQ Option Shuffling : Yes Is Question Mandatory : No Calculator : None Response Time : N.A Think Time : N.A Minimum Instruction Time : 0 Negative Marks Display Text : 1/3 Option Orientation : Vertical

Correct Marks : 1 Wrong Marks : 0.33

The mean deviation about the mean of the set of the first ten odd numbers is:

మొదటి పది బీసీ సంఖ్యల సమితి యొక్క సగటు విచలనం:

Options :

3

4390153597. ✖ 3

5

4390153598. ✓ 5

7

4390153599. ✖ 7

9

4390153600. ✖ 9